

Г 04151

код участника  
(не заполнять!)

ВСЕРОССИЙСКАЯ ОЛИМПИАДА ШКОЛЬНИКОВ  
МУНИЦИПАЛЬНЫЙ ЭТАП  
ГЕОГРАФИЯ

ЛИСТЫ ДЛЯ ОТВЕТА НА ЗАДАНИЯ 1 РАУНДА

7 КЛАСС

ФАМИЛИЯ, ИМЯ, ОТЧЕСТВО:

КОЛЕСНИКОВ ВЛАДИСЛАВ ГЕННАДЬЕВИЧ

ОБЩЕОБРАЗОВАТЕЛЬНАЯ ОРГАНИЗАЦИЯ:

МБОУ СОШ №7

КЛАСС:

7

МУНИЦИПАЛЬНЫЙ РАЙОН/ГОРОДСКОЙ ОКРУГ (НАСЕЛЕННЫЙ ПУНКТ):

Г. ГЕОРГИЕВСК

ФАМИЛИЯ, ИМЯ, ОТЧЕСТВО УЧИТЕЛЯ ГЕОГРАФИИ:

АЩИНОВА ОКСАНА ВЛАДИМИРОВНА

ЛИСТ ОТВЕТОВ НА ЗАДАЧУ 1

ГОУ151  
 зав 1 - 4б  
 зав 2 - 4б  
 зав 3 - 3б  
 зав 4 - 3б

№ п/п	Вопрос	Ответ
1.  6б	Почему у снега появился красный оттенок?	Из-за красного песка, осевшего на снег.
2.  4	Как связано это явление с представленным космическим снимком?	На снимке видно, что с территории пустыни Сахары поднимается крупное облако песка в направлении моря. Скорее всего, именно этот налет и стал причиной покраснения снега.
3.  2б	Опишите причину и механизм появления красного оттенка снега.	Из-за сильного ветра и восходящих потоков воздуха песок перенесло на Черноморское побережье, где он и осел.

6б

## ЛИСТ ОТВЕТОВ НА ЗАДАЧУ 2

Вопросы	Ответы	
	Рисунок 2	Рисунок 3
Название городов	Стамбул <sub>0,5</sub>	Детройт <sub>0,5</sub>
Материки	Евразия <sub>0,5</sub>	Северная Америка <sub>0,5</sub>
Страны	Турция <sub>0,5</sub>	Соединенные Штаты Америки <sub>0,5</sub>
Водные артерии	р. Дунай, пролив Босфор <sub>0,5</sub>	река Детройт <sub>0,5</sub>
Другие важные магистрали	Выезд через город к границе с европейскими странами	Выезд через город к границе с Канадой
Какие отрасли промышленности развиты в этих городах?	Автомобилестроение	Текстильная промышленность

### ЛИСТ ОТВЕТОВ НА ЗАДАЧУ 3

Укажите градус параллели, о которой идет речь:

45°

Ответы на вопросы:

1. Какая страна занимает третье место в мире по численности населения?

Соединенные Штаты Америки 0,75

2. Какая страна занимает второе место в мире по площади территории?

Канада 0,25

3. Территория какой страны включает в себя полуостров и два крупных острова?

Россия (Российская Федерация)

4. Какая страна имеет заморские владения, расположенные в Южной Америке, Карибском море, Индийском и Тихом океанах?

Франция 0,75

5. В какой стране более 100 городов с населением свыше одного миллиона жителей?

Китай (Китайская Народная Республика) 0,75

6. На территории какой страны находится пустыня Гоби?

Китайская Народная Республика

7. Какое европейское государство образовалось в 2006 году в результате распада государственного союза с другим государством, и не имеет выхода к морю?

Косово

8. Какая страна занимает территорию архипелага из 4 крупных островов, протянувшегося с севера на юг, в Тихом океане?

Индонезия

9. Какая страна является самой крупной по площади территории, и не имеет при этом выхода к морю?

Судан

10. Какая страна занимает первое место в мире по количеству омывающих ее территорию морей?

Греция

11. На территорию какой страны приходится самая большая (1075 км) протяженность реки Дунай?

Австрия

12. Территория какой страны включает в себя помимо материковой части, архипелаг почти из 700 островов в Адриатическом море?

Греция

13. Какая страна получила независимость в 1992 году и имеет три государственных языка?

Республика Беларусь

## ЛИСТ ОТВЕТОВ НА ЗАДАЧУ 4

### A. Названия гор

1. г. Малая Юца —	2. Большая Юца —
3.	4. г. Змейка 0,5
5.	6.
7. г. Лысая —	8.
9. г. Малый Утлау —	10. г. Машук 0,5
11.	12. г. Жемзугая —
13.	14. г. Большая Юца 0,5
15. г. Малая Юца —	16.
17. Большой Пау (Бештау)	

### B. Назовите причины формирования гор Пятигорья?

Из-за сильной магматич. активности внутренние процессы буквально выдавливают горы на поверхность

1,5

### B. Происхождение горной породы

Из-за остывания магмы и образовалась эта гднная порода.

0,5

### Г. Название горной породы

Гранитные и базальтовые плиты

0

Члены истории: *Аз* / Азарова (и В) / 3,5  
*С* / (Андреев М. А.)  
*В* / (Е. П. Кайбороченко)

Г07152

код участника  
(не заполнять!)

Ставропольский край  
Муниципальный этап всероссийской олимпиады школьников  
2018/19 учебный год

ГЕОГРАФИЯ

Листы для ответа на задания 2 раунда

7-9 класс

КОЛЕСНИКОВ ВЛАДИСЛАВ ГЕННАДЬЕВИЧ

ФИО участника (заполнить обязательно!)

## Часть 1 (тесты)

1 балл за каждый правильный ответ

Итого: 30 баллов

З.ч.1 - 210. Проголосовала  
 З.ч.2 - 51 - 48.  
 З.ч.3 - 52 - 28.  
 53 - 38.

№	Ответ (А - Г)
1.	A
2.	A
3.	BB
4.	A
5.	Г
6.	Б
7.	BB
8.	Б
9.	A
10.	B

+

+

-

+

-

-

-

+

+

+

№	Ответ (А - Г)
11.	Г
12.	A
13.	A
14.	ГА
15.	AA
16.	AB
17.	BAAB
18.	BB
19.	BF
20.	BAAB

+

-

+

-

+

+

+

-

+

-

№	Ответ (А - Г)
21.	ГА
22.	A
23.	B
24.	A
25.	A
26.	Б
27.	Г
28.	Б
29.	A
30.	B

95

+

+

+

-

+

+

+

+

+

+



код участника  
(не заполнять!)

№	Ответ
<b>Блок 1</b>	
<b>A</b>	Субъект РФ: <i>Ставропольский край (СКФО)</i> 1
	Часть субъекта РФ: <i>Восточная часть</i> 0
	Административные районы: <i>Шпаковский район</i> 1
	Элементы содержания карты: <i>село и масел. пункт Московское, Выздвальный, Поддубное</i> 1
<b>B</b>	Населенный пункт 1: <i>Издобильное Сашеннодольск</i> 0
	Населенный пункт 2: <i>Датское Издобильное</i> 1
<b>B</b>	Водохранилище 1: 0
	Водохранилище 2: 0
	Водохранилище 3: 0
	Река: <i>Егорлык</i> 1
<b>Блок 2</b>	
<b>A</b>	Масштаб карты: 0
	Способы расчета: 0
<b>B</b>	Высота самой высокой точки: <i>622 метра</i>
	Географические координаты: <i>45°4' с.ш., 41°67' в.д.</i> 2 б.
<b>Блок 3</b>	
<b>A</b>	Промышленность: <i>газовая промышленность (его добыча и переработка)</i>
	Сельское хозяйство: <i>злаковые культуры</i> 1 б.
<b>B</b>	Названия географических объектов и их происхождение: <i>Характер поселений (Староиздобильный; Новомарьевское), этническое происхождение (Верхнерусский), местность (Лихнурусский; Верхнерусский), речной сток. объектов и их характер (Травногорский; Кашеннодольск).</i> 2 б.

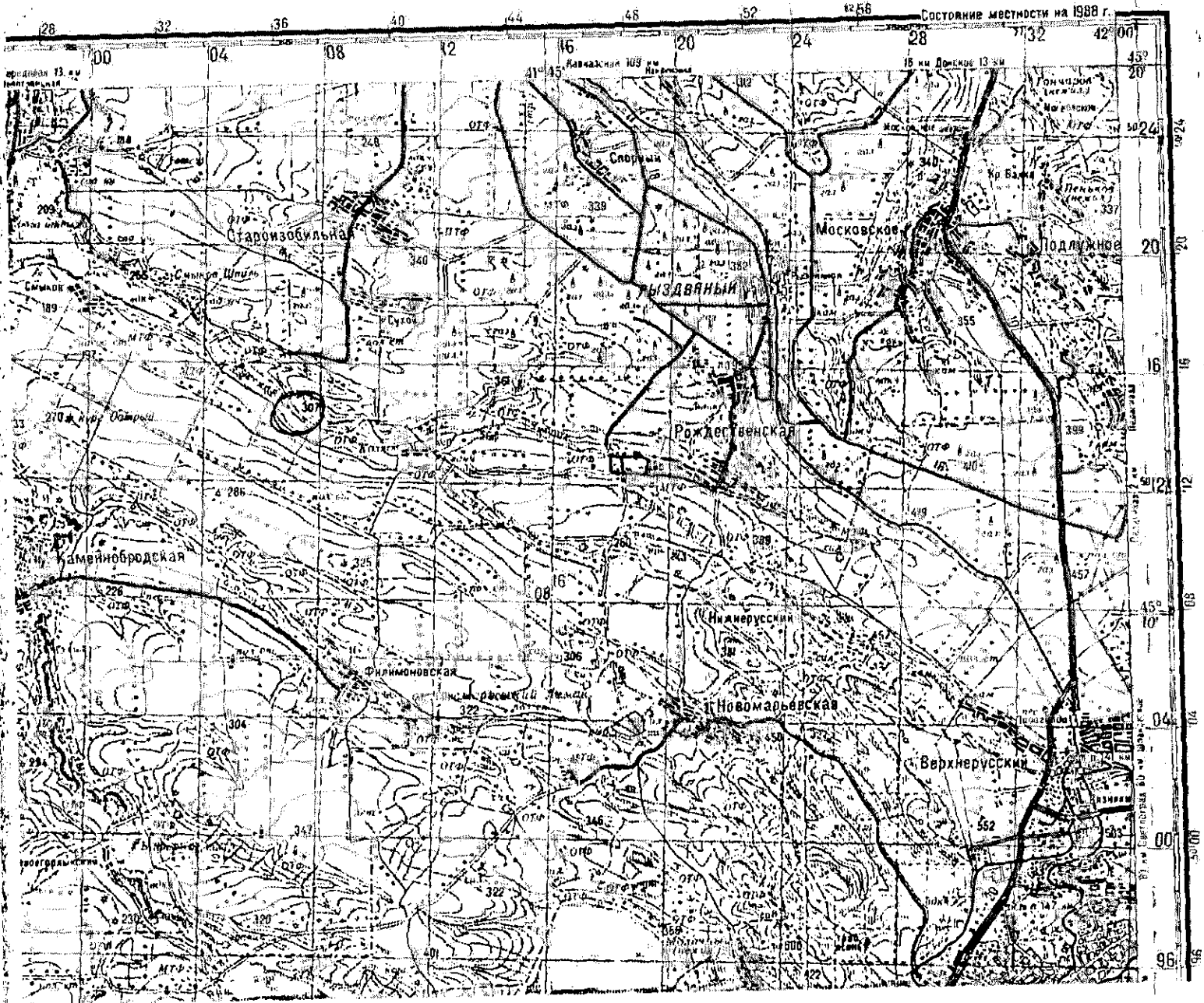
Именами: *Андрей (И.А. Андреева)*  
*И. В. Издрова*  
*Е. Г. Тайборомская*





код участника  
(не заполнять!)

### Карта к части 2



704041

код участника  
(не заполнять!)

ВСЕРОССИЙСКАЯ ОЛИМПИАДА ШКОЛЬНИКОВ  
МУНИЦИПАЛЬНЫЙ ЭТАП  
ГЕОГРАФИЯ

ЛИСТЫ ДЛЯ ОТВЕТА НА ЗАДАНИЯ 1 РАУНДА

7 КЛАСС

ФАМИЛИЯ, ИМЯ, ОТЧЕСТВО:

ЯГОТИНЦЕВ ДЕНИС ВЛАДИСЛАВОВИЧ

ОБЩЕОБРАЗОВАТЕЛЬНАЯ ОРГАНИЗАЦИЯ:

МБОУ СОШ №6

КЛАСС:

7А

МУНИЦИПАЛЬНЫЙ РАЙОН/ГОРОДСКОЙ ОКРУГ (НАСЕЛЕННЫЙ ПУНКТ):

ГОРОД ГЕОРГИЕВСК

ФАМИЛИЯ, ИМЯ, ОТЧЕСТВО УЧИТЕЛЯ ГЕОГРАФИИ:

ЕЛИСЕЕВА НАТАЛЬЯ ЯКОВЛЕВНА

Г 04041

## ЛИСТ ОТВЕТОВ НА ЗАДАЧУ 1

210-4  
 22-7,5  
 23-3,75  
 24-4,5  
 19,75

№ п/п	Вопрос	Ответ
1.	Почему у снега появился красный оттенок?	Из-за частичек песка, унесенных из пустыни в Африке. 2б
2	Как связано это явление с представленным космическим снимком?	<p>Ветер дующий с Африки переносит частички песка, и они выпадают на Черноморском побережье, вместе с осадками. 4б</p> <p>Это доказывает рисунок, где облачность с осадками движется на северо-восток.</p>
3.	Опишите причину и механизм появления красного оттенка снега.	<p>Вначале из-за сильного ветра, возможно песчаной бури частички песка попадают на большую высоту и оседают в облаках. А ветер дующий на северо-восток, переносит их и они выпадают на Черноморском побережье вместе с осадками. 4б</p>

## ЛИСТ ОТВЕТОВ НА ЗАДАЧУ 2

Вопросы	Ответы	
	Рисунок 2	Рисунок 3
Название городов	0,5 Амстердам	0 Чикаго
Материки	0,5 Евразия	0,5 Северная Америка
Страны	0,5 Нидерланды	0,5 США
Водные артерии	Бассейн Рейна, Северное и Средиземное моря. 0,5	Река Делтава, озеро Мичиган. 0,5
Другие важные магистрали	Транс-европейский маршрут, 2 морские (морской транспорт), 2 крупные авиолинии (воздушный транспорт), железные дороги и автомобильные магистрали, связывающие страны Европы.	Крупный морской узел связывающий США и Канаду, шоссе, самый загруженный в мире аэропорт, введенные авто и автобусные магистрали в Европе.
Какие отрасли промышленности развиты в этих городах?	Транспорт, производство машин, различные механические приборы, развитие туристической инфраструктуры.	Транспорт, производство машин, самолетов, различные механические приборы, развитие туристической инфраструктуры.

### ЛИСТ ОТВЕТОВ НА ЗАДАЧУ 3

Укажите градус параллели, о которой идет речь: 0

40°

Ответы на вопросы:

1. Какая страна занимает третье место в мире по численности населения?

США (соединенные штаты Америки), 0,75

2. Какая страна занимает второе место в мире по площади территории?

Канада, 0,75

3. Территория какой страны включает в себя полуостров и два крупных острова?

0

4. Какая страна имеет заморские владения, расположенные в Южной Америке, Карибском море, Индийском и Тихом океанах?

США, 0

5. В какой стране более 100 городов с населением свыше одного миллиона жителей?

Китай, 0,75

6. На территории какой страны находится пустыня Гоби?

Китай, 0

7. Какое европейское государство образовалось в 2006 году в результате распада государственного союза с другим государством, и не имеет выхода к морю?

КНДР (Китайская народная демократическая республика)

8. Какая страна занимает территорию архипелага из 4 крупных островов, протянувшегося с севера на юг, в Тихом океане?

США, 0

9. Какая страна является самой крупной по площади территории, и не имеет при этом выхода к морю?

Казахстан, 0,75

10. Какая страна занимает первое место в мире по количеству омывающих ее территорию морей?

Россия, 0,75

11. На территорию какой страны приходится самая большая (1075 км) протяженность реки Дунай?

Украина, 0

12. Территория какой страны включает в себя помимо материковой части, архипелаг почти из 700 островов в Адриатическом море?

Италия, 0

13. Какая страна получила независимость в 1992 году и имеет три государственных языка?

0

## ЛИСТ ОТВЕТОВ НА ЗАДАЧУ 4

### А. Названия гор

1. 0	2. Кинешма 0,5
3. Кольцо 0	4. 0
5. Развалка 0	6. Звездка 0
7. Мышь 0	8. 0
9. 0	10. Башмак 0,5
11. 0	12. Мелюзина 0
13. 0	14. Рука 0,5
15. Дыбка 0,5	16. Медовая 0
17. 0	

### Б. Назовите причины формирования гор Пятигорья? 1,5

Извержение вулканов, выветривание, осадки, землетрясения.

### В. Происхождение горной породы

Из остывшей лавы. 0,5

### Г. Название горной породы

Базальт. 0

тема реки (И.И. Тайборонская)  
 (М.А. Андреева)  
 (Т.В. Дзюрова)

Г07072

код участника  
(не заполнять!)

Ставропольский край  
Муниципальный этап всероссийской олимпиады школьников  
2018/19 учебный год

ГЕОГРАФИЯ

Листы для ответа на задания 2 раунда

7-9 класс

ЯГОТИНЦЕВ ДЕНИС ВЛАДИСЛАВОВИЧ

ФИО участника (заполнить обязательно!)

Часть 1 (тесты)

1 балл за каждый правильный ответ  
Итого: 30 баллов

З. №1 - 150 Баллы  
З. №2 - 51-25  
З. №3 - 52-25  
53-40

№	Ответ (А - Г)
1.	А
2.	Д
3.	А
4.	А
5.	Г
6.	Б
7.	В
8.	В
9.	А
10.	В

+  
+  
+  
+  
-  
-  
-  
-  
+  
+

№	Ответ (А - Г)
11.	Г
12.	Г
13.	Г
14.	Г
15.	А
16.	Г
17.	Б
18.	А
19.	В
20.	В

+  
+  
-  
-  
+  
-  
-  
-  
+  
-

№	Ответ (А - Г)
21.	Б
22.	Б
23.	В
24.	В
25.	Г
26.	Б
27.	Г
28.	А
29.	А
30.	В

80  
-  
-  
+  
-  
-  
+  
+  
-  
+  
+





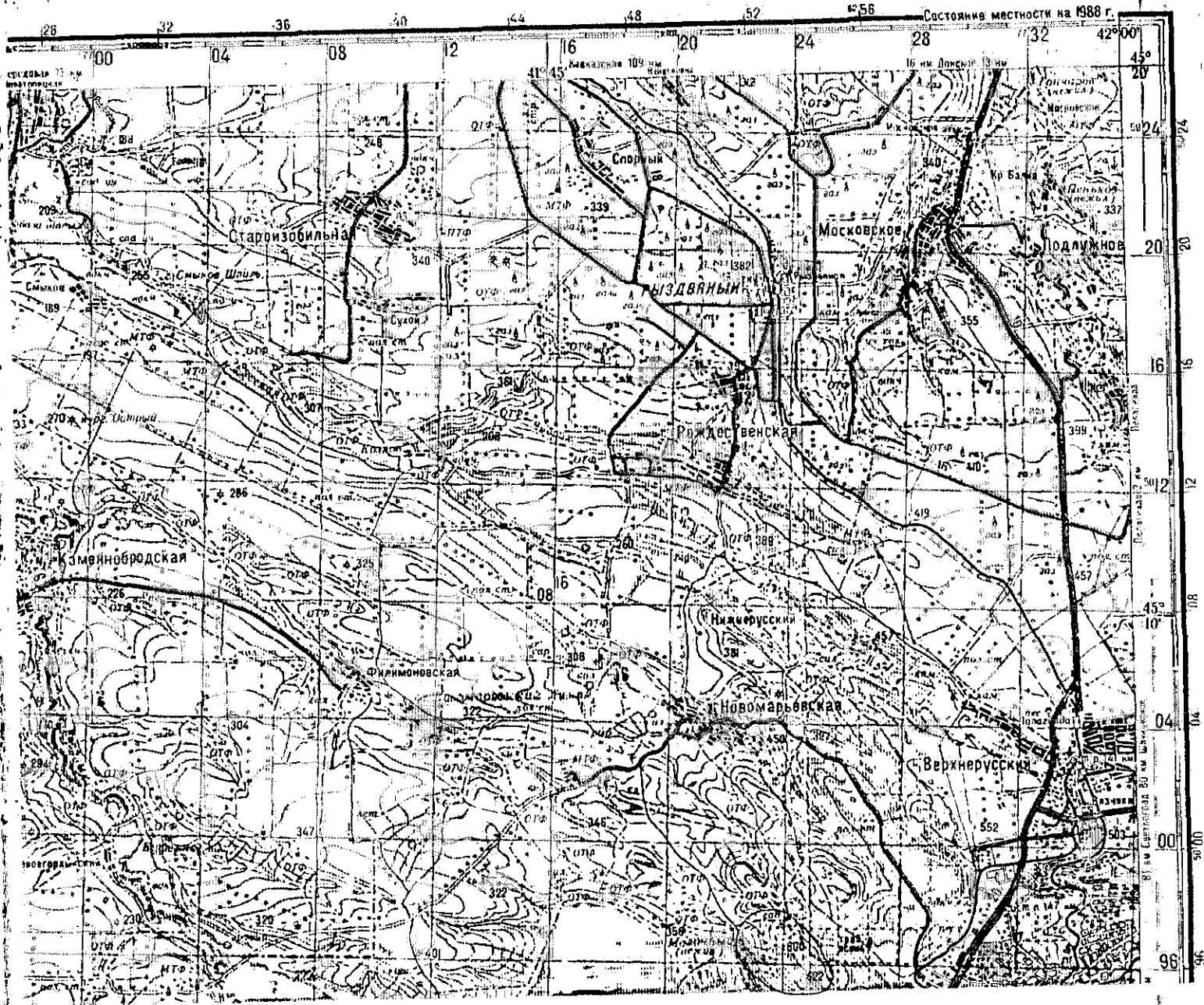
код участника  
(не заполнять!)

№	Ответ
<b>Блок 1</b>	
<b>А</b>	Субъект РФ: <del>Краснодарский край</del> Ставропольский край 1
	Часть субъекта РФ: Александровский район. 0
	Административные районы: Александровский. 0
	Элементы содержания карты: По широте и долготе, по указанным дорогам, по высоте над уровнем моря.
<b>Б</b>	Населенный пункт 1: Александровское село. 0
	Населенный пункт 2: 0
<b>В</b>	Водохранилище 1: 0
	Водохранилище 2: 0
	Водохранилище 3: 0
	Река: 0
<b>Блок 2</b>	
<b>А</b>	Масштаб карты: 1:250000 0
	Способы расчета: 0
<b>В</b>	Высота самой высокой точки: 622 м.
	Географические координаты: 41,45,25° <del>с.ш.</del> и 45,10,96° <del>с.ш.</del> 25.
<b>Блок 3</b>	
<b>А</b>	Промышленность: добыча газа. 1
	Сельское хозяйство: животноводство, садовничество, пашня. 1
<b>Б</b>	Названия географических объектов и их происхождение: Подушковское - возможно там раньше была самая большая местность. Верхнерусское - там много жителей русской национальности и оно размещено выше других сёл. 20

Учен потори: *Лоп* (М.А. Лопина)  
*В.В. Ветрова*  
*И.И. Тайвороненко*

код участника  
(не заполнять!)

# Карта к части 2



Г04131

код участника  
(не заполнять!)

ВСЕРОССИЙСКАЯ ОЛИМПИАДА ШКОЛЬНИКОВ  
МУНИЦИПАЛЬНЫЙ ЭТАП  
ГЕОГРАФИЯ

ЛИСТЫ ДЛЯ ОТВЕТА НА ЗАДАНИЯ 1 РАУНДА

7 КЛАСС

ФАМИЛИЯ, ИМЯ, ОТЧЕСТВО:

Стефаниди Ксения Романовна

ОБЩЕОБРАЗОВАТЕЛЬНАЯ ОРГАНИЗАЦИЯ:

МБОУ

Гимназия №2

КЛАСС:

7Б

МУНИЦИПАЛЬНЫЙ РАЙОН/ГОРОДСКОЙ ОКРУГ (НАСЕЛЕННЫЙ ПУНКТ):

г. Георгиевск

ФАМИЛИЯ, ИМЯ, ОТЧЕСТВО УЧИТЕЛЯ ГЕОГРАФИИ:

Зарянская Ольга Сергеевна

## ЛИСТ ОТВЕТОВ НА ЗАДАЧУ 1

№ п/п	Вопрос	Ответ
1.  2	Почему у снега появился красный оттенок?	Из-за сильных ветров, полевых бурь песок красного оттенка переносится из северной части Африки в горы близ Сохи и на Красную Пашену. В следствие чего у снега появился красный оттенок. Так же полевые облака, набравшие и перенёвшие песок от континента к континенту.
2.  4	Как связано это явление с представленным космическим снимком?	На космическом снимке явно видно, как частица песка переносится с одного континента на другой ветрами, полевыми облаками. Следовательно, из-за этого снег на Красной Пашене и в горах близ Сохи приобретает красный оттенок.
3.  0	Опишите причину и механизм появления красного оттенка снега.	Из-за сильных ветров, дующих от континента к континенту, захвата ватных с земли песок, он перенёсся ветрами в горы близ Сохи и на Красную Пашену. Из-за этого появился снег красного оттенка. А так же из-за полевых облаков.

## ЛИСТ ОТВЕТОВ НА ЗАДАЧУ 2

Вопросы	Ответы	
	Рисунок 2	Рисунок 3
Название городов		Мичиган
Материки	Евразия 0,5	Северная Америка 0,5
Страны		Канада
Водные артерии	Кувинг Босфор 0,5	река Детройт 0,5
Другие важные магистрали		Онтарио, Вандер
Какие отрасли промышленности развиты в этих городах?		Сельскохозяйственная промышленность.  0

1,50

### ЛИСТ ОТВЕТОВ НА ЗАДАЧУ 3

Укажите градус параллели, о которой идет речь:

45°

0,25

Ответы на вопросы:

1. Какая страна занимает третье место в мире по численности населения?

Япония

2. Какая страна занимает второе место в мире по площади территории?

Канада

0,25

3. Территория какой страны включает в себя полуостров и два крупных острова?

4. Какая страна имеет заморские владения, расположенные в Южной Америке, Карибском море, Индийском и Тихом океанах?

Великобритания

5. В какой стране более 100 городов с населением свыше одного миллиона жителей?

Китай

0,25

6. На территории какой страны находится пустыня Гоби?

Австралия

7. Какое европейское государство образовалось в 2006 году в результате распада государственного союза с другим государством, и не имеет выхода к морю?

Беларусия

8. Какая страна занимает территорию архипелага из 4 крупных островов, протянувшегося с севера на юг, в Тихом океане?

9. Какая страна является самой крупной по площади территории, и не имеет при этом выхода к морю?

Казахстан

0,25

10. Какая страна занимает первое место в мире по количеству омывающих ее территорию морей?

Российская Федерация

0,25

11. На территорию какой страны приходится самая большая (1075 км) протяженность реки Дунай?

12. Территория какой страны включает в себя помимо материковой части, архипелаг почти из 700 островов в Адриатическом море?

13. Какая страна получила независимость в 1992 году и имеет три государственных языка?

3,25 0

## ЛИСТ ОТВЕТОВ НА ЗАДАЧУ 4

### А. Названия гор

1. Змейка —	2. <del>Киндзаул</del> Астрогорка —
3. Ласая 0,5	4. Мешечная —
5.	6. Верблюдог 0,5
7.	8.
9.	10. Машук —
11.	12. Киндзаул —
13.	14. Дзуца? —
15. Дзуца 2 —	16.
17. Бештау —	

### Б. Назовите причины формирования гор Пятигорья?

Извержение вулканов, столкновение литосферных плит, хранило угнетённую планктуан, обитавший в океане, который был на Кавказских Минеральных водах миллиарды лет назад.

1Б

### В. Происхождение горной породы

Машиатинские остатки.

0,5

### Г. Название горной породы

Имена горы: *Аш* (М.А. Андришова) 2,5  
*Ры* / *ж. в. Азорова* /  
*Стар* / *В. Гайворонская* /

Г04132

код участника  
(не заполнять!)

Ставропольский край  
Муниципальный этап всероссийской олимпиады школьников  
2018/19 учебный год

ГЕОГРАФИЯ

Листы для ответа на задания 2 раунда

7-9 класс

Стефаниди Ксения Романовна

ФИО участника (заполнить обязательно!)



## Часть 1 (тесты)

1 балл за каждый правильный ответ

Итого: 30 баллов

З.ч1 - 135 Практика  
 З.ч2 - 51 - 15.  
 З.ч3 - 52 - 38.  
 53 - 45

№	Ответ (А - Г)
1.	А
2.	А
3.	А
4.	А
5.	В
6.	В
7.	Б
8.	А
9.	Б
10.	В

+  
+  
+  
+  
-  
+  
-  
-  
-  
+

№	Ответ (А - Г)
11.	Г
12.	А
13.	Г
14.	А
15.	А
16.	Г
17.	А
18.	А
19.	Г
20.	В

+  
-  
-  
+  
+  
-  
-  
-  
-  
-

№	Ответ (А - Г)
21.	Б
22.	Б
23.	Г
24.	В
25.	Б
26.	Б
27.	Г
28.	Б
29.	А
30.	Б

-  
-  
-  
-  
-  
+  
+  
+  
+  
-

85



код участника  
(не заполнять!)

№	Ответ
<b>Блок 1</b>	
<b>A</b>	Субъект РФ: <u>Р</u>
	Часть субъекта РФ: <u>Краснодарский край</u> <u>0</u>
	Административные районы: <u>Битловский, Ипатовский район</u> <u>1</u>
	Элементы содержания карты: <u>названия населённых пунктов</u> <u>0</u>
<b>B</b>	Населенный пункт 1: <u>Новотроицкая</u> <u>0</u>
	Населенный пункт 2: <u>Найдёновка</u> <u>0</u>
<b>B</b>	Водохранилище 1: <u>Буденное</u> <u>0</u>
	Водохранилище 2: <u>0</u>
	Водохранилище 3: <u>0</u>
	Река: <u>Курма</u> <u>0</u>
<b>Блок 2</b>	
<b>A</b>	Масштаб карты: <u>1:200000</u> <u>2 б.</u>
	Способы расчета: <u>в 1 см 4 км, тогда в 1 см 2 км = 2000 м = 200000 см.</u>
<b>B</b>	Высота самой высокой точки: <u>622</u> <u>10</u>
	Географические координаты: <u>24; 96</u>
<b>Блок 3</b>	
<b>A</b>	Промышленность: <u>места добычи газа, гидроэлектростанции</u> <u>2 б.</u>
	Сельское хозяйство: <u>Фруктовые сады</u>
<b>B</b>	Названия географических объектов и их происхождение: <u>Кашеннобродская - из-за большого количества камней;</u> <u>Нижнерусское и Верхнерусское из-за их географического</u> <u>расположения.</u> <u>2 б.</u>

Иванов Иван Иванович / И.И. Иванов  
 Петров Петр Петрович / П.П. Петров  
 Сидоров Сергей Сергеевич / С.С. Сидоров

Г 08021

код участника  
(не заполнять!)

ВСЕРОССИЙСКАЯ ОЛИМПИАДА ШКОЛЬНИКОВ  
МУНИЦИПАЛЬНЫЙ ЭТАП  
ГЕОГРАФИЯ

ЛИСТЫ ДЛЯ ОТВЕТА НА ЗАДАНИЯ 1 РАУНДА

8 КЛАСС

ФАМИЛИЯ, ИМЯ, ОТЧЕСТВО:

ТОЛКУНОВ ДМИТРИЙ СЕРГЕЕВИЧ

ОБЩЕОБРАЗОВАТЕЛЬНАЯ ОРГАНИЗАЦИЯ:

МКОУ СОШ №11

КЛАСС:

8

МУНИЦИПАЛЬНЫЙ РАЙОН/ГОРОДСКОЙ ОКРУГ (НАСЕЛЕННЫЙ ПУНКТ):

Г. ГЕОРГИЕВСК, ~~пос.~~ пос. НОВЫЙ

ФАМИЛИЯ, ИМЯ, ОТЧЕСТВО УЧИТЕЛЯ ГЕОГРАФИИ:

ТОЛКУНОВА СВЕЛАНА АЛЕКСАНДРОВНА

1-6  
2-4  
3-4,5  
4-3  
5-3

Г08021

ЛИСТ ОТВЕТОВ НА ЗАДАЧУ 1

№ п/п	Вопрос		Ответ
1.	В каком полушарии происходили эти явления?		<del>Западных</del> северном 1
	В каких широтах происходили эти явления?		Южных и умеренных 1
2.	Определите причину формирования облачности на рисунке 1 и дыма на рисунке 2.	Рисунок 1	Большее количество влаги, много 1
		Рисунок 2	М. Переход с запада 1
3.	В каком направлении происходил атмосферный перенос?		с запада на восток 1
	Каков его механизм?		0
4.	Какие особенности глобальной циркуляции атмосферы наблюдаются в других широтах?		Бурьное множество циклонов, ветры 1
5.	Как влияет глобальная циркуляция атмосферы в разных широтах на движение вод в океане?		В северных ускоряется, в южных замедляется 0

## ЛИСТ ОТВЕТОВ НА ЗАДАЧУ 2

№ п/п	Вопрос		Ответ
1.	Как называются изображенные на рисунках архипелаг и море?	Рисунок 3	<p>Страны: Исландия                      Шпицберген <span style="float: right;">1</span></p>
		Рисунок 4	<p>Карветское <span style="float: right;">0</span></p>
2.	Какие изменения там происходят?	Рисунок 3	<p>Зона мерзлота                      ледники <span style="float: right;">0</span></p>
		Рисунок 4	<p>Зона мерзлота <span style="float: right;">0</span></p>
	В чем их причина?	<p>Разное <sup>рациональные</sup> изменение                      температур <span style="float: right;">1</span></p>	
3.	Под воздействием каких факторов это явление приобрело планетарный масштаб?	<p>Под воздействием                      многих лет человека <span style="float: right;">1</span></p>	
4.	К каким последствиям, приводят эти глобальные изменения?	положительным	<p><span style="float: right;">0</span></p>
		отрицательным	<p>Гибель растений, по                      лесам <span style="float: right;">1</span></p>

### ЛИСТ ОТВЕТОВ НА ЗАДАЧУ 3

Название маршрута: Зеленое кольцо 2

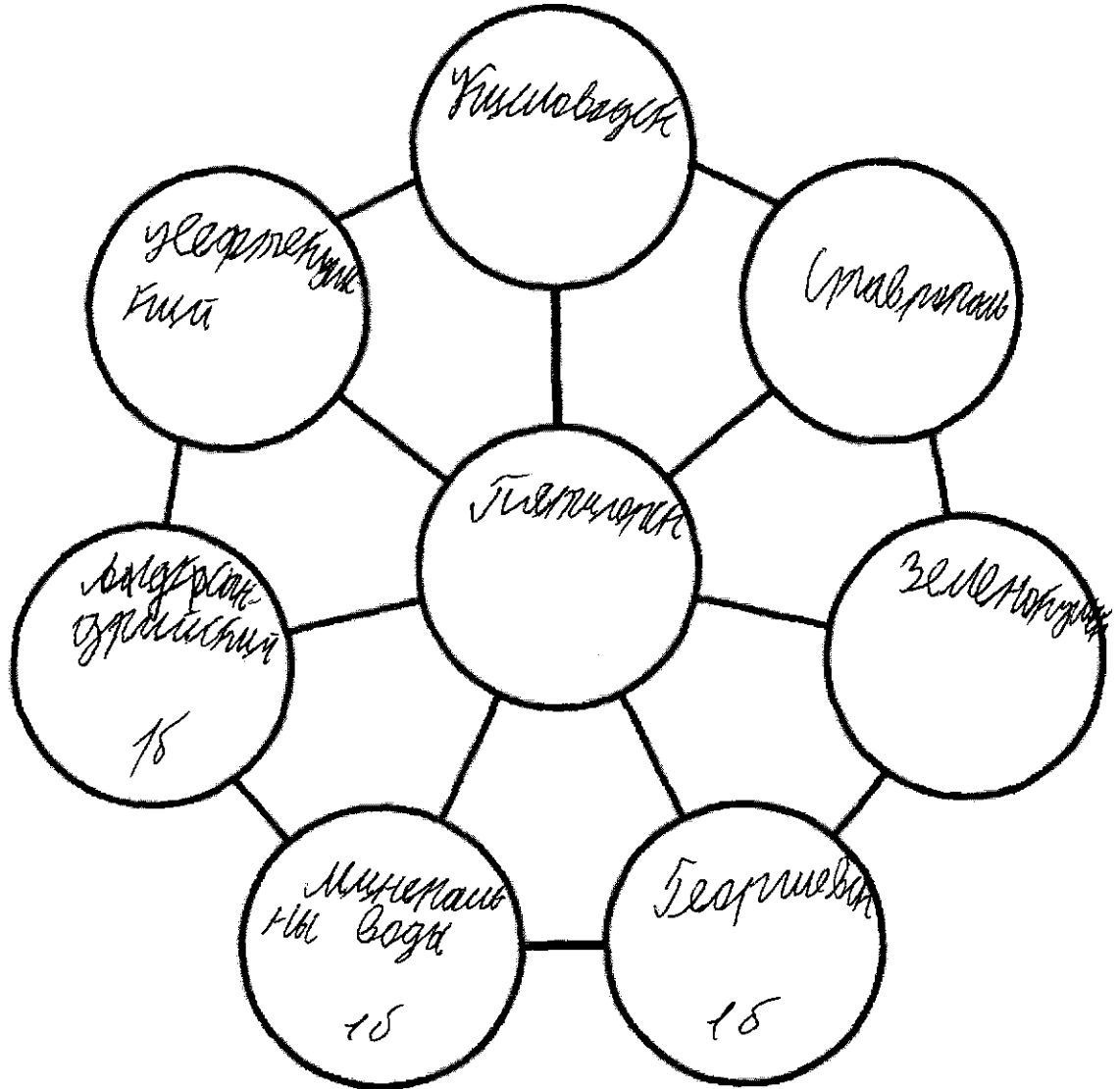
№	Город	Субъект РФ
1	Ульяновск Ульяновск	Ульяновская обл.
2	Самара-пестерин	Самарская область
3	Москва	Московской обл.
4	Екатеринбург 0,5	Свердловская обл.
5	Ярославль 0,5	Ярославская обл. 0,5
6	Тула	Тульская обл.
7	→ Екатеринбург	Екатеринбургская обл.
8	Владимир 0,5	Владимирская обл. 0,5

4,55.


ЛИСТ ОТВЕТОВ НА ЗАДАЧУ 4

№ описания	Город	Субъект РФ
1.	Урюпинск	
2.	Ульяновский Новоград	Ульяновская обл.
3.	УА Урюпинск (Северная)	Урюпинск
4.	Ульяновск	Ульяновск
5.	Воронеж 0,5	Воронежская обл. 0,5
6.	Сочи 0,5	Урюпинский край 0,5
7.	(Самара) Самара	
8.	Урюпинск	
9.	Москва 0,5	Москва <del>Урюпинский край</del> 0,5
10.	Урюпинск	

ЛИСТ ОТВЕТОВ НА ЗАДАЧУ 5



35

Шумово О.А. 



Г 08022

код участника  
(не заполнять!)

Ставропольский край  
Муниципальный этап всероссийской олимпиады школьников  
2018/19 учебный год

ГЕОГРАФИЯ

Листы для ответа на задания 2 раунда

7-9 класс

ТОЛКУНОВ ДМИТРИЙ СЕРГЕЕВИЧ

ФИО участника (заполнить обязательно!)

Т-20  
1-4

Г 08022

### Часть 1 (тесты)

1 балл за каждый правильный ответ

Итого: 30 баллов

№	Ответ (А - Г)	
1.	Д	0
2.	А	1
3.	А	1
4.	А	1
5.	В	0
6.	В	1
7.	Б	0
8.	Б	1
9.	А	1
10.	А	0

№	Ответ (А - Г)	
11.	Г	1
12.	Б	0
13.	Д	1
14.	Д	1
15.	А	1
16.	Д	1
17.	А	0
18.	А	0
19.	В	1
20.	Б	1

№	Ответ (А - Г)	
21.	Г	1
22.	Г	0
23.	В	1
24.	Е	1
25.	А	1
26.	А	0
27.	(Б) А	0
28.	Б	1
29.	А	1
30.	В	1

205

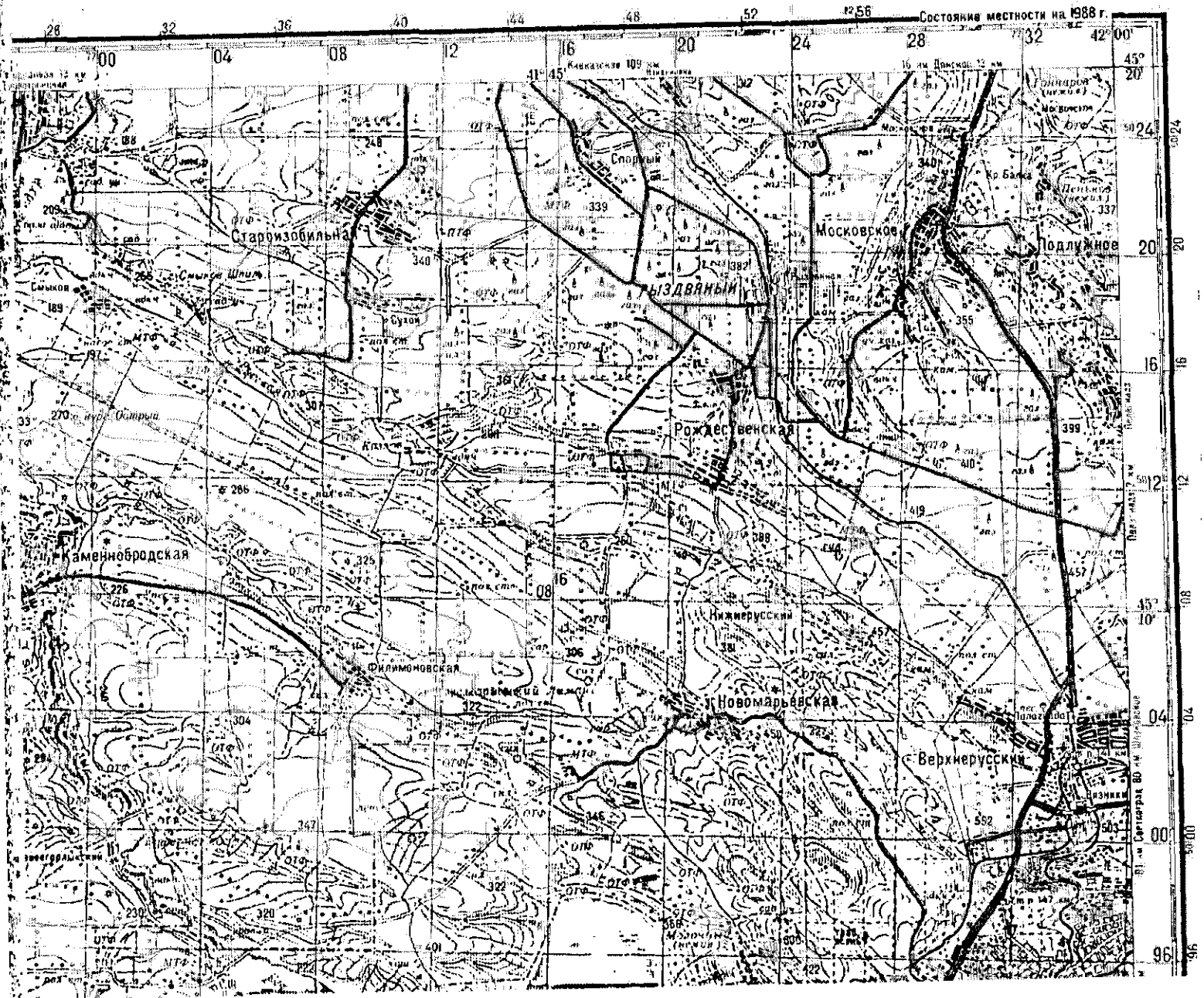


код участника  
(не заполнять!)

№	Ответ	
<b>Блок 1</b>		
А	Субъект РФ: <i>Иркутская область</i>	1
	Часть субъекта РФ: <i>Северный</i>	0
	Административные районы: <i>Иркутский</i>	1
	Элементы содержания карты: <i>Горы, реки, озера</i>	0
Б	Населенный пункт 1: <i>Иркутск</i>	
	Населенный пункт 2: <i>Тайшет</i>	
В	Водохранилище 1: <i>Иркутское</i>	
	Водохранилище 2: <i>Саянское</i>	
	Водохранилище 3: <i>Байкал</i>	
	Река: <i>Иркут</i>	
<b>Блок 2</b>		
А	Масштаб карты: <i>1: 1000 000</i> Способы расчета: <i>приближенные</i>	1
В	Высота самой высокой точки: <i>700 м.</i> Географические координаты: <i>47° 30' с. ш. 110° в. д.</i>	0
<b>Блок 3</b>		
А	Промышленность: <i>добывающие промыслы, металлургия</i> Сельское хозяйство: <i>выращивание зерновых культур, скотоводство</i>	1
Б	Названия географических объектов и их происхождение: <i>Монгольское название</i>	0

код участника  
(не заполнять!)

# Карта к части 2



Г08031

код участника  
(не заполнять!)

ВСЕРОССИЙСКАЯ ОЛИМПИАДА ШКОЛЬНИКОВ  
МУНИЦИПАЛЬНЫЙ ЭТАП  
ГЕОГРАФИЯ

ЛИСТЫ ДЛЯ ОТВЕТА НА ЗАДАНИЯ 1 РАУНДА

8 КЛАСС

ФАМИЛИЯ, ИМЯ, ОТЧЕСТВО:

Урянская Анастасия Дмитриевна

ОБЩЕОБРАЗОВАТЕЛЬНАЯ ОРГАНИЗАЦИЯ:

МБОУ СОШ № 7

КЛАСС:

8

МУНИЦИПАЛЬНЫЙ РАЙОН/ГОРОДСКОЙ ОКРУГ (НАСЕЛЕННЫЙ ПУНКТ):

г. Георгиевск

ФАМИЛИЯ, ИМЯ, ОТЧЕСТВО УЧИТЕЛЯ ГЕОГРАФИИ:

Ашинова Оксана Владимировна

1-9  
2-5  
3-1  
4-3  
5-1

Г 08031

ЛИСТ ОТВЕТОВ НА ЗАДАЧУ 1

№ п/п	Вопрос	Ответ
1.	В каком полушарии происходили эти явления?	Северное полушарие 1
	В каких широтах происходили эти явления?	60°-70° с.ш. 1
2.	Определите причину формирования облачности на рисунке 1 и дыма на рисунке 2.	<p>Рисунок 1 Формирование облачности происходит в связи с большим количеством испаряющей из-за галенис ледников. 1</p> <p>Рисунок 2 Возможно, формирование дыма происходит в связи с <del>выбросом</del> <del>или</del> токсичных отходов, выходящих веществ в атмосферу. 1</p>
3.	В каком направлении происходил атмосферный перенос?	В западном направлении 1
	Каков его механизм?	Из-за движения воздушной массы в западном направлении облака на рисунке 1 и дым на рисунке 2 движутся в западном направлении, об этом можно судить по увеличению кол-ва дыма на западе от источника. 1
4.	Какие особенности глобальной циркуляции атмосферы наблюдаются в других широтах?	В районе экватора и тропических климатических поясов дымом в субтропическом и л. п. наблюдается дождь, т.к. тропические воздушные массы приносят ее, а летом идут проливные дожди, т.к. экваториальные воздушные массы имеют большое количество влаги. 1
5.	Как влияет глобальная циркуляция атмосферы в разных широтах на движение вод в океане?	В зависимости от циркуляции атмосферы изменяется температура вод, следовательно образуется течения и водные массы. Так же, когда сталкиваются разные воздушные массы возможна образование смерчей, которые ведут за собой цунами. 2

95

## ЛИСТ ОТВЕТОВ НА ЗАДАЧУ 2

№ п/п	Вопрос		Ответ
1.	Как называются изображенные на рисунках архипелаг и море?	Рисунок 3	Земли Франца-Иосифа 0
		Рисунок 4	Кергеленское море 0
2.	Какие изменения там происходят?	Рисунок 3	Увеличение расстояния между островами данного архипелага 0,5
		Рисунок 4	Таяние ледников 0,5
	В чем их причина?		Глобальное потепление 1
3.	Под воздействием каких факторов это явление приобрело планетарный масштаб?		В связи со стремительным увеличением температуры в северном регионе нашей планеты происходит таяние ледников. Это может обернуться большими проблемами как для мирного населения, так и для животных и птиц. 0
4.	К каким последствиям, приводят эти глобальные изменения?	положительным	Возможность изучения последствий. 0
		отрицательным	Могут быть затоплены находящиеся рядом с северным побережьем материков. В связи с опреснением вод морей и океанов изменяется их флора и фауна, температура, уровень моря. 3

### ЛИСТ ОТВЕТОВ НА ЗАДАЧУ 3

Название маршрута: Наследие России 05

№	Город	Субъект РФ
1	Уфа 0	
2	Санкт-Петербург 0	Санкт-Петербург, Ленинградская область 0
3	Малый Новгород 0	Новгородская область 0
4	Ярославль 0,5	
5	Тверь 0	
6	Омск 0	
7	Большой Новгород 0	Новгородская область
8	Москва 0	Москва, Московская область 0,5

$$0,5 + 0,5 = 1,0$$

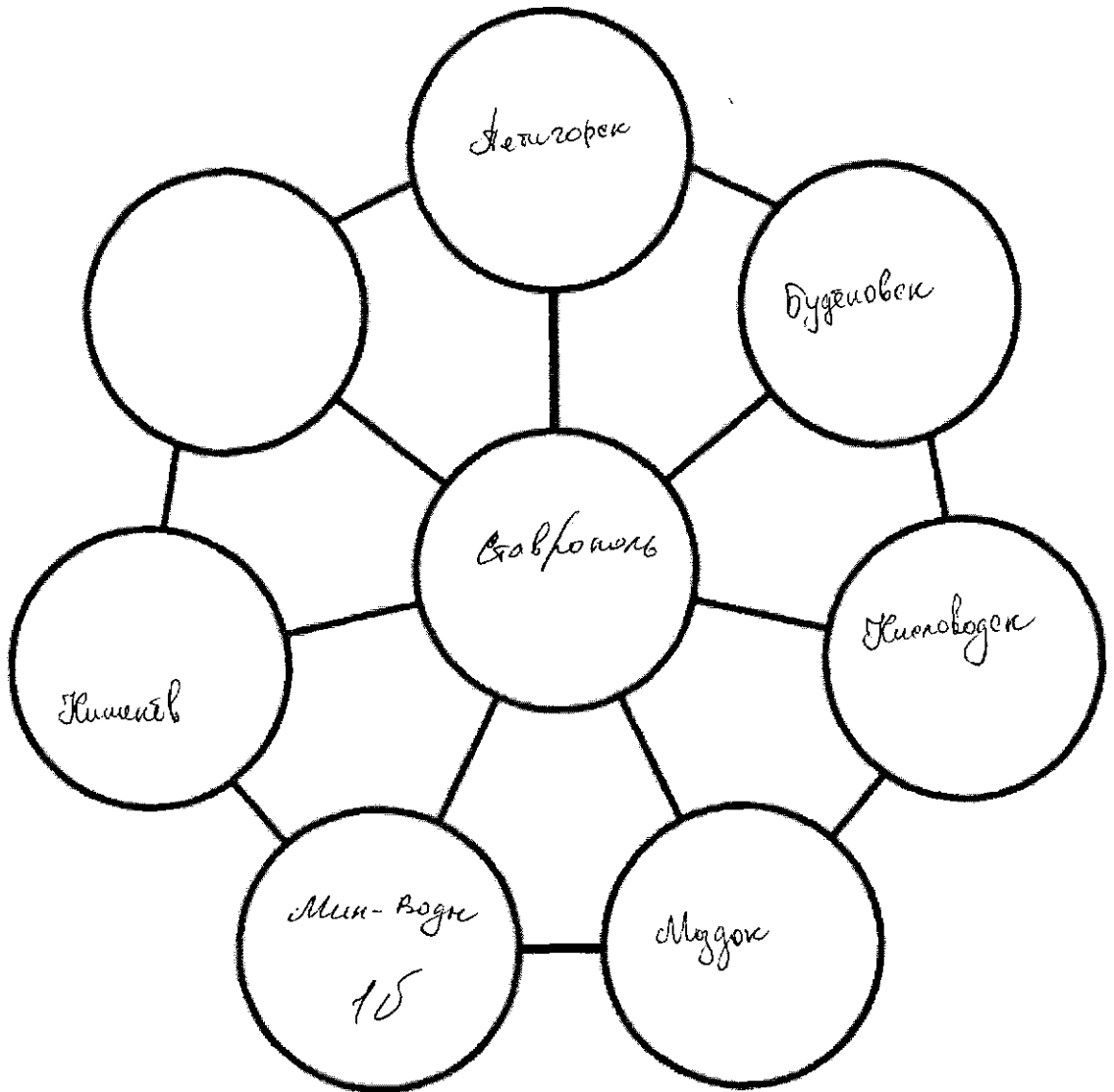


## ЛИСТ ОТВЕТОВ НА ЗАДАЧУ 4

№ описания	Город	Субъект РФ
1.	Иркутск 0	
2.	Архангельск 0	Товольное 0
3.	Санкт-Петербург 0	Санкт-Петербург, Ленинградская область 0
4.	Саратов 0	
5.	Вологда 0	Сталинградская область 0
6.	Сочи 0,5	Краснодарский край 0,5
7.	Королёв 0,5	
8.	Мурманск 0	Мурманская область 0
9.	Москва 0,5	Москва, Московская область 0,5
10.		г. Саранск 0,5

35

ЛИСТ ОТВЕТОВ НА ЗАДАЧУ 5



15

Шульченко О.И. *[Signature]*

Г 08032

код участника  
(не заполнять!)

Ставропольский край  
Муниципальный этап всероссийской олимпиады школьников  
2018/19 учебный год

ГЕОГРАФИЯ

Листы для ответа на задания 2 раунда

7-9 класс

Урошкая Анастасия Дмитриевна

ФИО участника (заполнить обязательно!)

Г 08032

Часть 1 (тесты)

1 балл за каждый правильный ответ

Итого: 30 баллов

всего 158  
Кривовичев КС

№	Ответ (А – Г)
1.	А
2.	А
3.	А
4.	А
5.	Б
6.	Б
7.	Б
8.	В
9.	В
10.	В

№	Ответ (А – Г)
11.	Г
12.	А
13.	БГ
14.	В
15.	А
16.	В
17.	В
18.	В
19.	В
20.	А

№	Ответ (А – Г)
21.	Г
22.	Б
23.	В
24.	А
25.	А
26.	А
27.	В
28.	Б
29.	А
30.	А

146



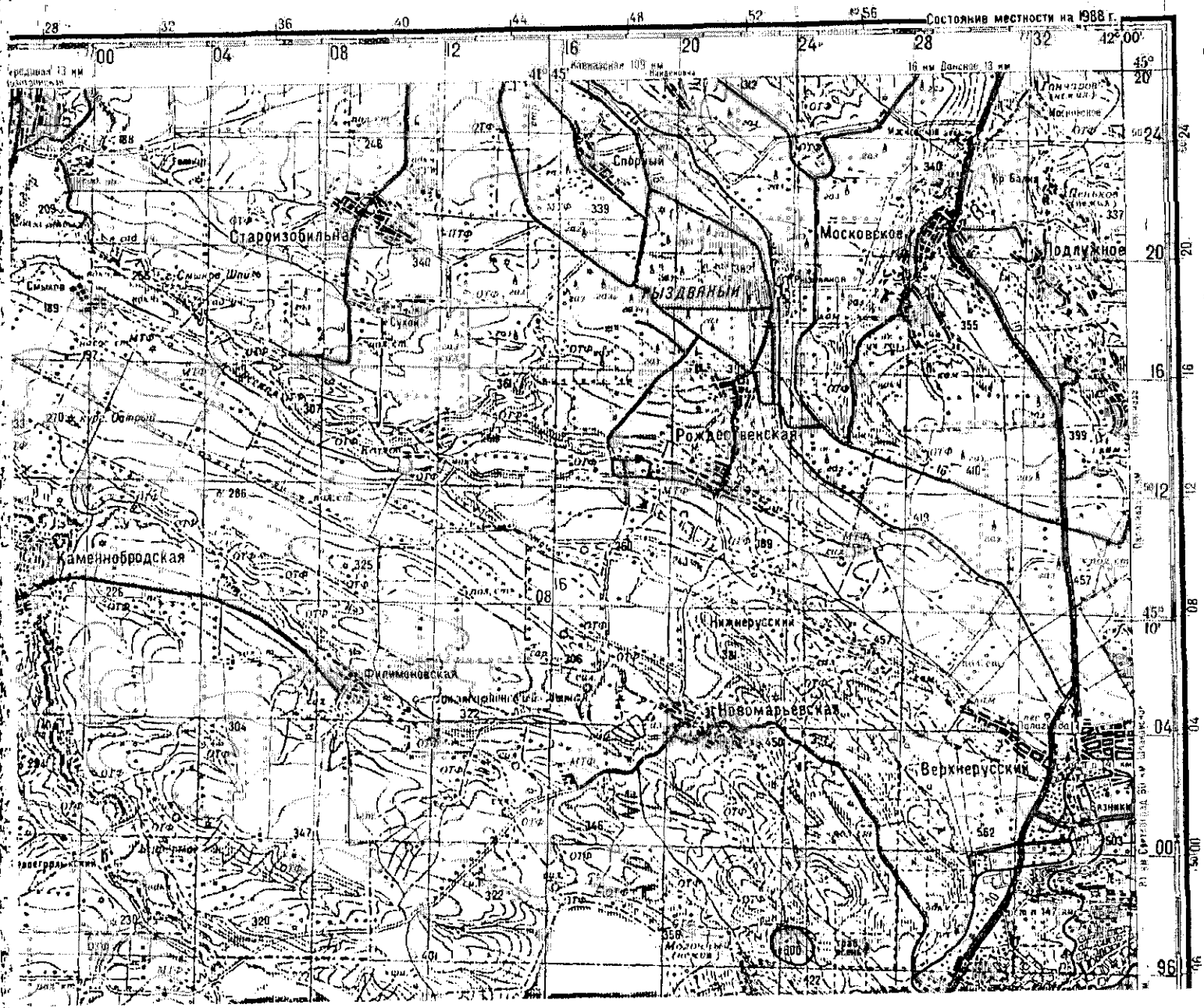
код участника  
(не заполнять!)

№	Ответ
<b>Блок 1</b>	
<b>A</b>	Субъект РФ: <i>Якутская область</i>
	Часть субъекта РФ: <i>Якутск</i>
	Административные районы: <i>Роздольный округ</i>
	Элементы содержания карты: <i>Название крупного населенного пункта. Большое кол-во мелких населенных пунктов</i>
<b>Б</b>	Населенный пункт 1: <i>Якутск</i>
	Населенный пункт 2: <i>Роздольный</i>
<b>В</b>	Водохранилище 1: <i>Ерковское</i>
	Водохранилище 2:
	Водохранилище 3:
	Река:
<b>Блок 2</b>	
<b>A</b>	Масштаб карты: <i>6 см. 5 км</i>
	Способы расчета:
<b>В</b>	Высота самой высокой точки: <i>600 м</i>
	Географические координаты: <i>3° с.ш. 126° з.д.</i>
<b>Блок 3</b>	
<b>A</b>	Промышленность: <i>добыча угля, газа</i>
	Сельское хозяйство: <i>оленеводство, оленеводство</i>
<b>Б</b>	<p>Названия географических объектов и их происхождение:</p> <p><i>Некоторые названия произошли в связи с родом деятельности жителей (Жаппа-Хорок, Хорок). Некоторые - в связи с возникновением населенных пунктов родом (Ново-Марьевская, Нижне-Якутская)</i></p>



код участника  
(не заполнять!)

# Карта к части 2



Г09131

код участника  
(не заполнять!)

ВСЕРОССИЙСКАЯ ОЛИМПИАДА ШКОЛЬНИКОВ  
МУНИЦИПАЛЬНЫЙ ЭТАП  
ГЕОГРАФИЯ

ЛИСТЫ ДЛЯ ОТВЕТА НА ЗАДАНИЯ 1 РАУНДА

9 КЛАСС

ФАМИЛИЯ, ИМЯ, ОТЧЕСТВО:

Гыатов Захар Анатольевич

ОБЩЕОБРАЗОВАТЕЛЬНАЯ ОРГАНИЗАЦИЯ:

МБОУ гимназия №2

КЛАСС:

9

МУНИЦИПАЛЬНЫЙ РАЙОН/ГОРОДСКОЙ ОКРУГ (НАСЕЛЕННЫЙ ПУНКТ):

г. Георгиевск

ФАМИЛИЯ, ИМЯ, ОТЧЕСТВО УЧИТЕЛЯ ГЕОГРАФИИ:

Зарзипаева Ольга Сергеевна

# ЛИСТ ОТВЕТОВ НА ЗАДАЧУ 1

1 = 40  
 2 = 558  
 3 = 655  
 4 = 56  
 5 = 26  
 09131  
 236.

№ п/п	Вопрос		Ответ
1.	В каком полушарии происходили эти явления?		Северное полушарие 1
	В каких широтах происходили эти явления?		54° - 60° с.ш. 1
2.	Определите причину формирования облачности на рисунке 1 и дыма на рисунке 2.	Рисунок 1	Дым перемещается с облаками 0
		Рисунок 2	Циркуляция вулкана 0
3.	В каком направлении происходил атмосферный перенос?		с запада на восток 1
	Каков его механизм?		Сила Кориолиса
4.	Какие особенности глобальной циркуляции атмосферы наблюдаются в других широтах?		с 90° до 60° воздушные потоки «сплозают» с полюсов. 1
5.	Как влияет глобальная циркуляция атмосферы в разных широтах на движение вод в океане?		0.



ЛИСТ ОТВЕТОВ НА ЗАДАЧУ 2 = 5,5с.

№ п/п	Вопрос		Ответ
1.	Как называются изображенные на рисунках архипелаг и море?	Рисунок 3	Земля Франца-Иосифа
		Рисунок 4	Баренцево море 0
2.	Какие изменения там происходят?	Рисунок 3	Таяние ледников 0,5
		Рисунок 4	Повышение уровня воды 0
	В чем их причина?		Глобальное потепление 1
3.	Под воздействием каких факторов это явление приобрело планетарный масштаб?		Под воздействием вредных выбросов в атмосферу, которые наносят вред основному слою земли. 1
4.	К каким последствиям, приводят эти глобальные изменения?	положительным	Повышение общей температуры планеты, вследствие чего для комфортного проживания будут доступны новые территории на севере. 2
		отрицательным	Повышение уровня вод мирового океана, что приведет к затоплению некоторых участков суши. 1

ЛИСТ ОТВЕТОВ НА ЗАДАЧУ 3 = 6,56

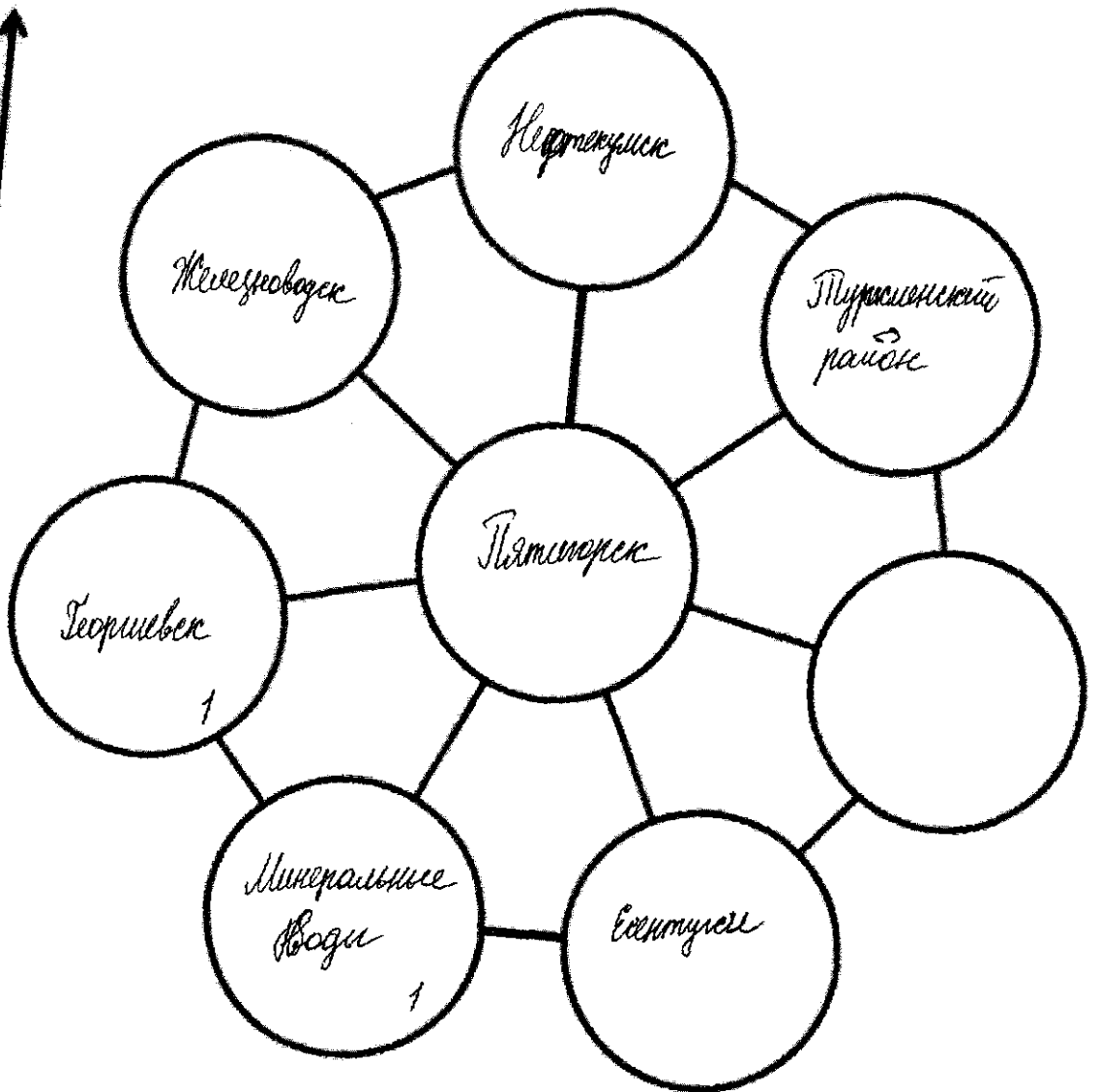
Название маршрута: Золотое кольцо = 25.

№	Город	Субъект РФ
1	Сергиев - Посад 0,56	Московская область 0,56
2	Восток - Восток 0,56	0
3	Новгород 0,6	
4	Ярославль 0,56	Ярославская область 0,56
5	Кострома 0,56	Костромская область 0,56
6		
7		
8	Владимир 0,56	Владимирская область 0,56

ЛИСТ ОТВЕТОВ НА ЗАДАЧУ 4 <sup>2,58</sup>

№ описания	Город	Субъект РФ
1.	Коршувка 0,58	Красноярский край 0,58
2.	<del>Апатты</del> Ижевск	республика Удмуртия
3.	Владивосток	Набатовский край
4.	Малае 0,58	Республика Ингушетия 0,58
5.	Ростов-на-Дону	Ростовская область
6.	Сочи 0,58	Краснодарский край 0,58
7.	Екатеринбург	Екатеринбургская область
8.	Мурманск	Мурманская область
9.	Москва 0,58	Московская область 0,58
10.	Южно-Сахалинск 0,5	Сахалинская область 0,58

ЛИСТ ОТВЕТОВ НА ЗАДАЧУ 5 = 26



Г 09132

код участника  
(не заполнять!)

Ставропольский край  
Муниципальный этап всероссийской олимпиады школьников  
2018/19 учебный год

ГЕОГРАФИЯ

Листы для ответа на задания 2 раунда

7-9 класс

Лытлов Захар Анатольевич

ФИО участника (заполнить обязательно!)

Часть 1 (тесты)

1 балл за каждый правильный ответ  
Итого: 30 баллов

Г 09132  
П-60  
Т-236

№	Ответ (А – Г)
1.	a+
2.	g+
3.	a+
4.	a+
5.	b-
6.	b+
7.	g-
8.	g+
9.	a+
10.	b+

№	Ответ (А – Г)
11.	z+
12.	g-
13.	g+
14.	a+
15.	a+
16.	a+
17.	b+
18.	b+
19.	g-
20.	b-

№	Ответ (А – Г)
21.	z+
22.	b-
23.	b+
24.	a-
25.	a+
26.	g+
27.	z+
28.	+g
29.	+a
30.	+b

65

код участника  
(не заполнять!)

№	Ответ
<b>Блок 1</b>	
<b>A</b>	Субъект РФ: <i>Ставропольский край</i> 10
	Часть субъекта РФ: 0
	Административные районы: <i>Новоагларевский район</i> 0
	Элементы содержания карты: <i>Новоагларевская, Староагларевская</i> 0
<b>B</b>	Населенный пункт 1: <i>Ставрополь</i> 15
	Населенный пункт 2: <i>Ламбурск</i> 0
<b>B</b>	Водохранилище 1:
	Водохранилище 2:
	Водохранилище 3:
	Река: <i>Кума</i> 0
<b>Блок 2</b>	
<b>A</b>	Масштаб карты: <i>1:4</i> 0
	Способы расчета:
<b>B</b>	Высота самой высокой точки: <i>600</i> 10
	Географические координаты: <i>42° 27' 42" 42° 27' 15" 42° 27' 15" в. д.</i> 0
<b>Блок 3</b>	
<b>A</b>	Промышленность: <i>добыча газа</i> 35
	Сельское хозяйство: <i>выращивание зерно-хозяйственных культур, рыбный промысел.</i>
<b>B</b>	Названия географических объектов и их происхождение: <i>Верхнерусский - большое количество русских жителей. Камениобразная - каменистая почва.</i> 0

Г09022

код участника  
(не заполнять!)

Ставропольский край  
Муниципальный этап всероссийской олимпиады школьников  
2018/19 учебный год

ГЕОГРАФИЯ

Листы для ответа на задания 2 раунда

7-9 класс

Грицейко Виктория Валерьевна

ФИО участника (заполнить обязательно!)



Тест - 140  
Практика - 48

Г 09022

Часть 1 (тесты)

1 балл за каждый правильный ответ

Итого: 30 баллов

№	Ответ (А - Г)
0	1. Б
10	2. А
0	3. Б
0	4. В
0	5. Г
10	6. В
0	7. Б
0	8. В
10	9. А
10	10. В

№	Ответ (А - Г)
0	11. А
0	12. Д
10	13. Д
10	14. А
10	15. А
10	16. А
10	17. В
0	18. А
10	19. В
10	20. Б

№	Ответ (А - Г)
10	21. Г
0	22. В
0	23. А
10	24. Е
10	25. А
0	26. А
10	27. Г
10	28. Б
10	29. А
0	30. Б

148



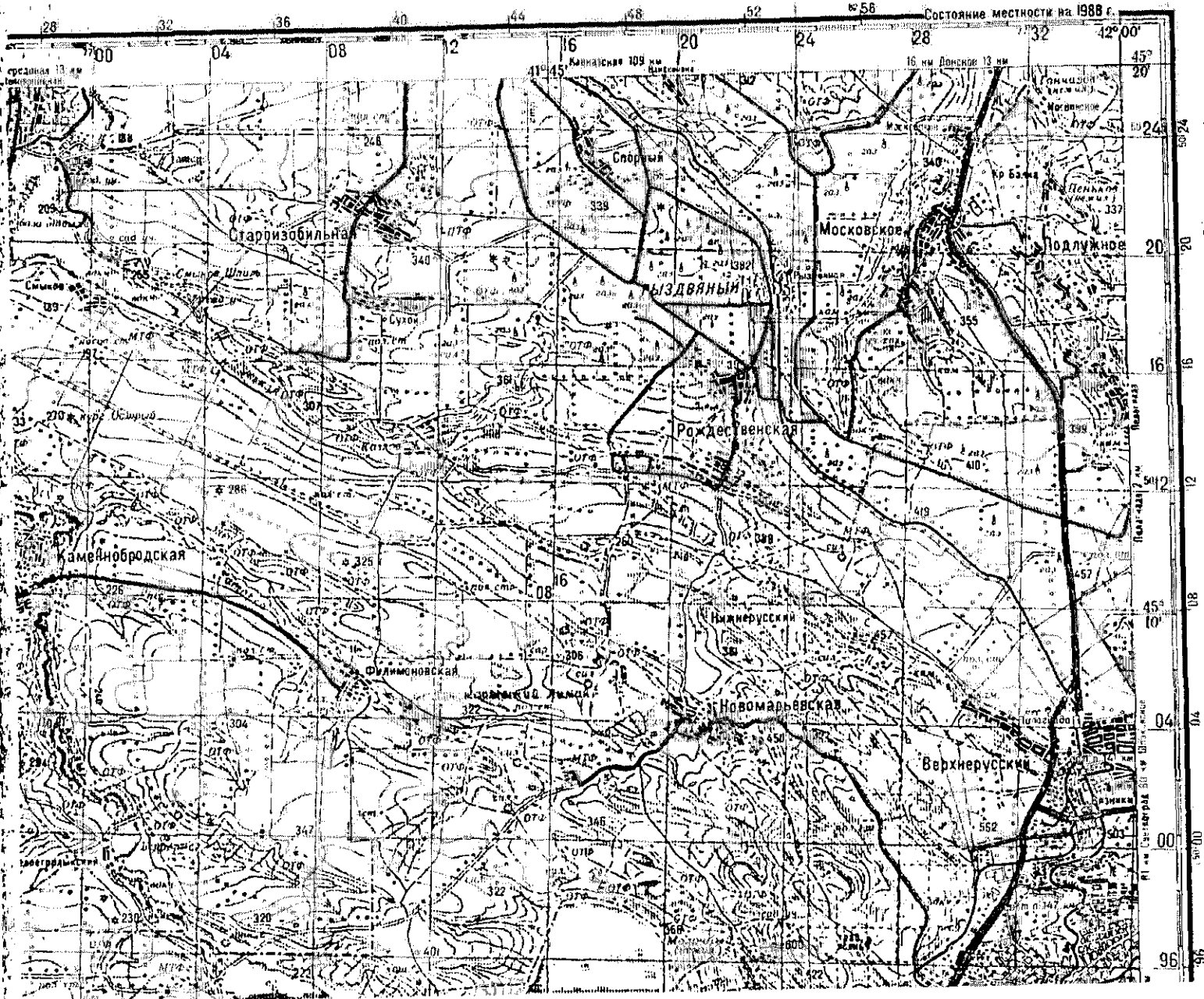
код участника  
(не заполнять!)

№	Ответ
<b>Блок 1</b>	
<b>A</b>	Субъект РФ: <del>Архангельская область</del> <del>Ивановская область</del> <del>Тамбовская область</del> <i>Тамбовская область</i>
	Часть субъекта РФ:
	Административные районы: <i>Тамбовский</i>
	Элементы содержания карты:
<b>B</b>	Населенный пункт 1:
	Населенный пункт 2:
<b>B</b>	Водохранилище 1:
	Водохранилище 2:
	Водохранилище 3:
	Река: <i>Румяная</i> <i>Исбрия</i> <i>Борина</i>
<b>Блок 2</b>	
<b>A</b>	Масштаб карты: <i>1: 96.000.000</i>
	Способы расчета: <i>1: 96.000.000</i>
<b>B</b>	Высота самой высокой точки: <i>600</i>
	Географические координаты: <i>град Ясень</i>
<b>Блок 3</b>	
<b>A</b>	Промышленность: <i>молочная</i>
	Сельское хозяйство: <i>животноводство</i>
<b>B</b>	Названия географических объектов и их происхождение: <i>Новошахтурская</i> <i>Рязанский</i> <i>Воронежский</i>

1  
0  
0  
0  
0  
0  
1  
1  
1  
45

код участника  
(не заполнять!)

### Карта к части 2



Г09021

код участника  
(не заполнять!)

ВСЕРОССИЙСКАЯ ОЛИМПИАДА ШКОЛЬНИКОВ  
МУНИЦИПАЛЬНЫЙ ЭТАП  
ГЕОГРАФИЯ

ЛИСТЫ ДЛЯ ОТВЕТА НА ЗАДАНИЯ 1 РАУНДА

9 КЛАСС

ФАМИЛИЯ, ИМЯ, ОТЧЕСТВО:

ГРИЦЕНКО ВИКТОРИЯ ВАЛЕРЬЕВНА

ОБЩЕОБРАЗОВАТЕЛЬНАЯ ОРГАНИЗАЦИЯ:

МБОУ СОШ №7

КЛАСС:

9Б

МУНИЦИПАЛЬНЫЙ РАЙОН/ГОРОДСКОЙ ОКРУГ (НАСЕЛЕННЫЙ ПУНКТ):

г. ГЕОРГИЕВСК

ФАМИЛИЯ, ИМЯ, ОТЧЕСТВО УЧИТЕЛЯ ГЕОГРАФИИ:

АШИМОВА ОКСАНА ВЛАДИМИРОВНА

1 - 3б  
 2 - 4,5б  
 3 - 3б  
 4 - 3б  
 5 - 1б

14,5б

Г 09021

ЛИСТ ОТВЕТОВ НА ЗАДАЧУ 1

13 - 3б, 23 - 4,5б, 33 - 3б

№ п/п	Вопрос	Ответ
1.	В каком полушарии происходили эти явления?	В северном 1б
	В каких широтах происходили эти явления?	В северных 0
2.	Определите причину формирования облачности на рисунке 1 и дыма на рисунке 2.	Рисунок 1 Шторм 1б
		Рисунок 2 Таяние ледников 0
3.	В каком направлении происходил атмосферный перенос?	В северном направлении 0
	Каков его механизм?	Умеренный, дует в северном направлении. 1б
4.	Какие особенности глобальной циркуляции атмосферы наблюдаются в других широтах?	В южной широте наблюдается сухой, не влажный климат. 0
5.	Как влияет глобальная циркуляция атмосферы в разных широтах на движение вод в океане?	Может произойти таяние ледников. либо наоборот замедление 0

4-3

ЛИСТ ОТВЕТОВ НА ЗАДАЧУ 2

4,5

№ п/п	Вопрос		Ответ
1.	Как называются изображенные на рисунках архипелаг и море?	Рисунок 3	Индонезийский архипелаг Баренцево море 0,5
		Рисунок 4	Маданово море 0,0
2.	Какие изменения там происходят?	Рисунок 3	Была дымка 0,0
		Рисунок 4	Турбное дымка 0,0
	В чем их причина?		Изменения климата. 1
3.	Под воздействием каких факторов это явление приобрело планетарный масштаб?		Климат, течение вод. 0
4.	К каким последствиям, приводят эти глобальные изменения?	положительным	Не только изменение климата не приведет к глобальным изменениям. 0
		отрицательным	Может измениться климат маршевые стабильности вод. 3,5

ЛИСТ ОТВЕТОВ НА ЗАДАЧУ 3

~~30~~ 35

Название маршрута: Маммери Ротши

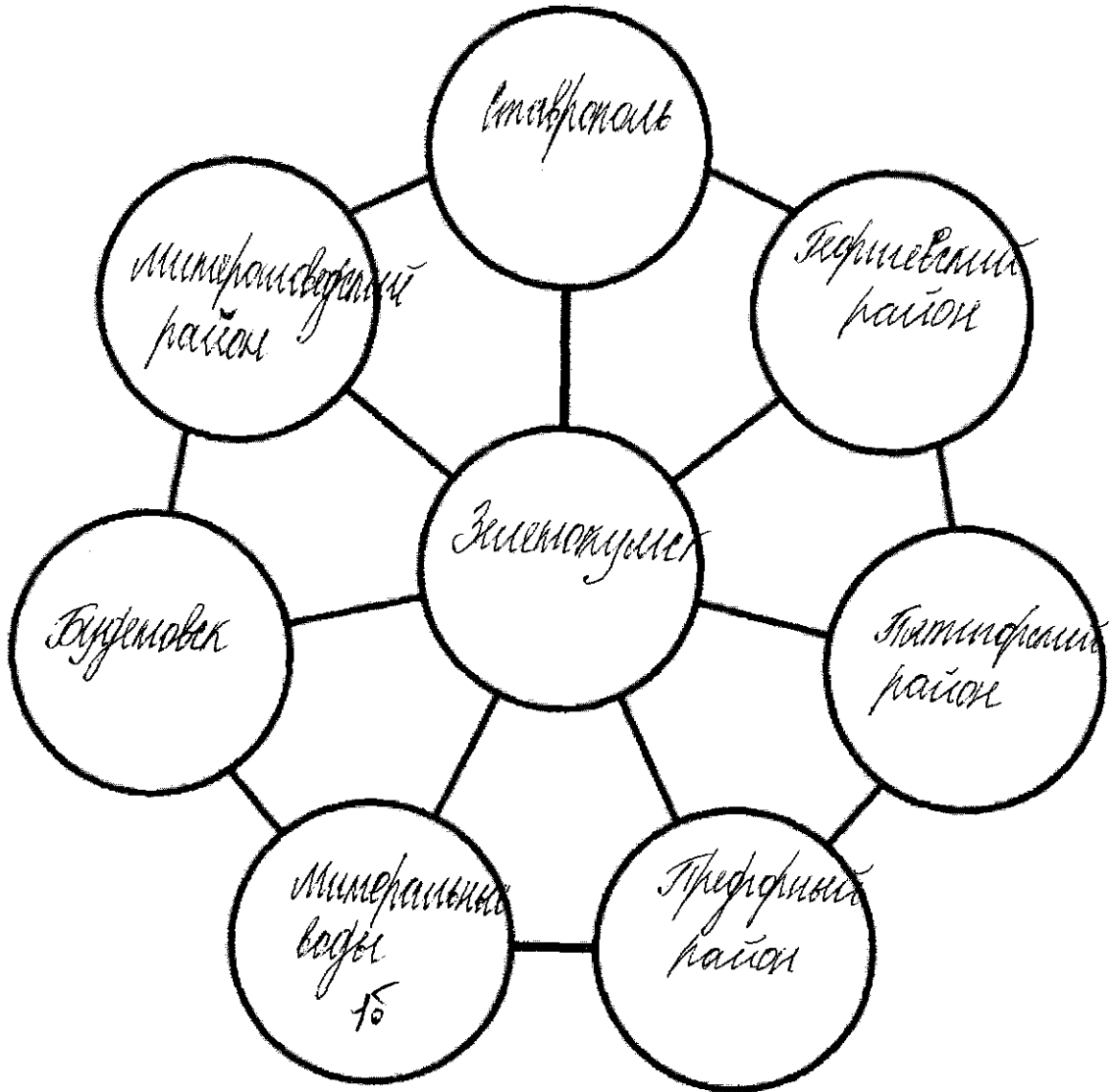
№	Город	Субъект РФ
1	Сергиев Посад 0,5 <sup>б</sup>	Московская область 0,5
2	Тулов 0	Тульская область 0
3	Красноярск 0	Красноярский край 0
4	Ярославль 0,5	Ярославская область 0,5
5	Екатеринбург 0	Свердловская область 0
6	Иваново 0,5	Ивановская область 0,5
7	Иркутск 0	Иркутская область 0
8	Великий Новгород 0	Новгородская область 0

ЛИСТ ОТВЕТОВ НА ЗАДАЧУ 4

35

№ описания	Город	Субъект РФ
1.	Сургут 0	Ханты-Мансийский округ
2.	Тамара 0	Тамарская область
3.	Барнаул 0	Новосибирская область
4.	Севастополь 0	Республика Крым
5.	Волгоград 0	Волгоградская область
6.	Сочи 0,5	Краснодарский край
7.	Челябинск 0	Челябинская область
8.	Мурманск 0	Мурманская область
9.	Москва 0,5	Московская область
10.	Южно-Сахалинск 0,5	Сахалинская область





Г 09161

код участника  
(не заполнять!)

ВСЕРОССИЙСКАЯ ОЛИМПИАДА ШКОЛЬНИКОВ  
МУНИЦИПАЛЬНЫЙ ЭТАП  
ГЕОГРАФИЯ

ЛИСТЫ ДЛЯ ОТВЕТА НА ЗАДАНИЯ 1 РАУНДА

9 КЛАСС

ФАМИЛИЯ, ИМЯ, ОТЧЕСТВО:

МАКОЗЕБ НИКОЛАЙ АНДРЕЕВИЧ

ОБЩЕОБРАЗОВАТЕЛЬНАЯ ОРГАНИЗАЦИЯ:

МБОУ СОШ №9

КЛАСС:

9Б

МУНИЦИПАЛЬНЫЙ РАЙОН/ГОРОДСКОЙ ОКРУГ (НАСЕЛЕННЫЙ ПУНКТ):

г. Георгиевск

ФАМИЛИЯ, ИМЯ, ОТЧЕСТВО УЧИТЕЛЯ ГЕОГРАФИИ:

Маларинава Франкоа Юстаиевна

1-40  
2-3,50  
3-0  
4-2,50  
5-20

120

Г 09161

ЛИСТ ОТВЕТОВ НА ЗАДАЧУ 1

40

№ п/п	Вопрос	Ответ
1.	В каком полушарии происходили эти явления?	в северном 10
	В каких широтах происходили эти явления?	20°-50° с.ш. 0
2.	Определите причину формирования облачности на рисунке 1 и дыма на рисунке 2.	Рисунок 1 Из-за выветривания котлов и полей за собой образующие "атмосферный реж". 10
		Рисунок 2 возможно было извержение вулкана. 0
3.	В каком направлении происходил перенос атмосферный?	в первом рисунке по направлению к экватору.
	Каков его механизм?	во втором рисунке разделился на две части одна из которых была направлена к экватору, а вторая относительно не двигалась. во первом рисунке механизм явления циклон 10 на втором рисунке механизм явления глобальная циркуляция атмосферы.
4.	Какие особенности глобальной циркуляции атмосферы наблюдаются в других широтах?	на особенности циркуляции атмосферы влияют ветра, такие как: пассаты, муссоны. Также на это влияют крупные выбросы в атмосферу и ураганы. 10
5.	Как влияет глобальная циркуляция атмосферы в разных широтах на движение вод в океане?	если глобальная циркуляция атмосферы сильная, то могут образоваться сильные волны, а в противном случае штиль. 0

## ЛИСТ ОТВЕТОВ НА ЗАДАЧУ 2 3,55

№ п/п	Вопрос		Ответ
1.	Как называются изображенные на рисунках архипелаг и море?	Рисунок 3	Френдисленд 0
		Рисунок 4	Лэдди с Индендид. 0
2.	Какие изменения там происходят?	Рисунок 3	на архипелаге происходит вымывание во время шторма 0,5
		Рисунок 4	море в дельте заливает сушу 0
	В чем их причина?		на рисунке возможно оказывает свой влияние шквальные потопы 1 на рисунке возможно оказывает свой влияние землетрясение.
3.	Под воздействием каких факторов это явление приобрело планетарный масштаб?		на это могут повлиять: усиление атмосферного давления, шквальные потопы, тектонические сдвиги и землетрясения. 1
4.	К каким последствиям, приводят эти глобальные изменения?	положительным	на рисунке положительные факторы не видны 0 на четвертом рисунке и также не видны положительные факторы, разве что заселившие территории больше покрывшие.
		отрицательным	на рисунке отрицательными факторами можно считать изменение ландшафта, ведь вода западает и вода не возмещается животными. 1,5 на рисунке затопление окружающих территорий может отражаться на радиации населения и растительности.

# ЛИСТ ОТВЕТОВ НА ЗАДАЧУ 3 ①

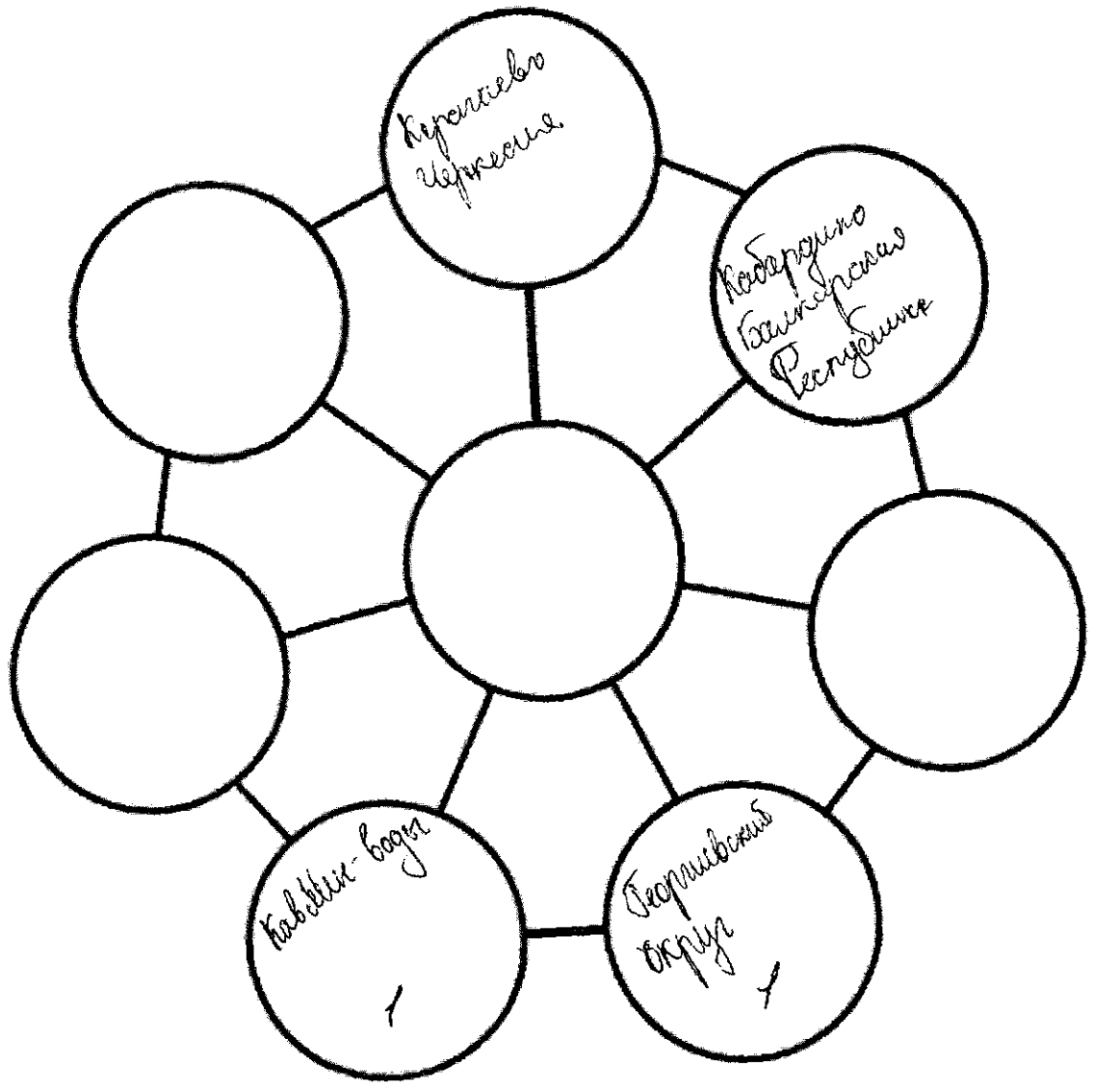
Название маршрута: \_\_\_\_\_

№	Город	Субъект РФ
1		
2		
3		
4		
5		
6		
7	Тюльце ①	Тюльцевский район ①
8		

ЛИСТ ОТВЕТОВ НА ЗАДАЧУ 4

2,505

№ описания	Город	Субъект РФ
1.	0	0
2.	Екатеринбург 0	Екатеринбургская область 0
3.	Самара 0	0
4.		
5.	Ростов-на-Дону 0	Ростовская область 0
6.	Сочи 0,5	Краснодарский край 0,5
7.	Кемерово	Кемеровская область 0,5
8.	Мурманск 0	0
9.	Москва 0,5	Московская область 0,5
10.		



Г 09162

код участника  
(не заполнять!)

Ставропольский край  
Муниципальный этап всероссийской олимпиады школьников  
2018/19 учебный год

ГЕОГРАФИЯ

Листы для ответа на задания 2 раунда

7-9 класс

МАКОСЕБ НИКОЛАЙ АНДРЕЕВИЧ

ФИО участника (заполнить обязательно!)



Тест - 180  
Преклещена - 48

Г 09162

Часть 1 (тесты)

1 балл за каждый правильный ответ

Итого: 30 баллов

№	Ответ (А - Г)
1.	В
2.	Д
3.	А
4.	А
5.	А
6.	В
7.	Г
8.	Г
9.	А
10.	В

№	Ответ (А - Г)
11.	Г
12.	А
13.	Д
14.	А
15.	А
16.	А
17.	Б
18.	Б
19.	В
20.	В

№	Ответ (А - Г)
21.	Г
22.	Б
23.	В
24.	А
25.	А
26.	А
27.	Г
28.	В
29.	А
30.	Г

198



код участника  
(не заполнять!)

№	Ответ
<b>Блок 1</b>	
<b>A</b>	Субъект РФ: <i>Московская область</i>
	Часть субъекта РФ: <i>подмосковье</i>
	Административные районы: <i>Истринский, Истринский район, Верея</i>
	Элементы содержания карты: <i>по названию населенного пункта.</i>
<b>B</b>	Населенный пункт 1:
	Населенный пункт 2:
<b>B</b>	Водохранилище 1: <i>(Новошарьевское) Шаринское водос.</i>
	Водохранилище 2: <i>Старошаринское</i>
	Водохранилище 3:
	Река: <i>Шаринка</i>
<b>Блок 2</b>	
<b>A</b>	Масштаб карты:
	Способы расчета:
<b>B</b>	Высота самой высокой точки: <i>622.</i>
	Географические координаты:
<b>Блок 3</b>	
<b>A</b>	Промышленность: <i>добыча газа</i>
	Сельское хозяйство: <i>животноводство.</i>
<b>B</b>	Названия географических объектов и их происхождение: <i>Шаринский: возможно наши шаринские деревни принадлежат району; Истринский и Верейский: истринские так по названию по системе; Новошарьевские: возможно этот истинный путь основана Шаринка.</i>

0

0

1

0

1

1

45



Г10021

код участника  
(не заполнять!)

ВСЕРОССИЙСКАЯ ОЛИМПИАДА ШКОЛЬНИКОВ  
МУНИЦИПАЛЬНЫЙ ЭТАП  
ГЕОГРАФИЯ

ЛИСТЫ ДЛЯ ОТВЕТА НА ЗАДАНИЯ 1 РАУНДА

10 КЛАСС

ФАМИЛИЯ, ИМЯ, ОТЧЕСТВО:

МАРШАЛКИН АРТЕМ АРТЕМОВИЧ

ОБЩЕОБРАЗОВАТЕЛЬНАЯ ОРГАНИЗАЦИЯ:

КЛАСС:

МБОУ СОШ №7

10А

МУНИЦИПАЛЬНЫЙ РАЙОН/ГОРОДСКОЙ ОКРУГ (НАСЕЛЕННЫЙ ПУНКТ):

ГЕОРГИЕВСКИЙ ГОРОДСКОЙ ОКРУГ

ФАМИЛИЯ, ИМЯ, ОТЧЕСТВО УЧИТЕЛЯ ГЕОГРАФИИ:

АШИНОВА ОКСАНА ВЛАДИМИРОВНА

## ЛИСТ ОТВЕТОВ НА ЗАДАЧУ 1

1. Что это за показатель? Угол падения солнечных лучей 0
- 
2. Как и почему его распределение изменяется от тропических широт к экватору и к полюсам? Из-за того, что Земля имеет форму шара, следовательно чем дальше от экватора тем угол будет меньше. 0
- 
- От побережья к центру материков? Вода отливает часть солнечной энергии 0
- 
3. Какова причина уменьшения солнечного излучения, достигающего земной поверхности в этой стране в период с 2003 по 2014 гг.? Из-за выброса в атмосферу вредных веществ, имеющих образующих озонового слоя, которое и не пропускает солнечную энергию. 0
- 
4. О какой стране идет речь? Китай 1
5. Почему наиболее значительное уменьшение этого показателя характерно для восточных и западных районов этой страны? Потому что именно в этих частях страны находятся большие города, деятельность которых загрязняет атмосферу. 1
- 
6. Какая природная причина способствует уменьшению этого показателя в восточных районах страны? Высокие горы мешают проникновению и проветриванию воздушных масс. 0
- 

$$2 + 4 + 1 + 0 + 0 = 7$$

## ЛИСТ ОТВЕТОВ НА ЗАДАЧУ 2

1. Название объекта: Промышленная железная дорога 1
2. Уникальность: Билетная цена всего страны 1
3. Субъекты РФ, на территории которых находится объект:

1) Московская область О14	11) Амурская область О44
2) Свердловская область О14	12)
3) Красноярская область	13)
4) Алтайский край	14)
5) Челябинская область О14	15)
6) Забайкальский край	16)
7) Владимирская область О14	17)
8) Нижегородская область	18)
9) Самарская область	19)
10) Приморский край О14	20)

УЧ.

### ЛИСТ ОТВЕТОВ НА ЗАДАЧУ 3

Термин: Август 1

№ описания	Страна	Окружающая страна
1	ЮАР	Сомали
2	ОАЭ	Египет
3	Тунис	Россия
4	Чад	Нигерия
5	Франция	

1.

Г10022

код участника  
(не заполнять!)

Ставропольский край  
Муниципальный этап всероссийской олимпиады школьников  
2018/19 учебный год

ГЕОГРАФИЯ

Листы для ответа на задания 2 раунда  
10-11 класс

МЛРШАЛКИН АРТЕМ АРТЕМОВИЧ.

ФИО участника (заполнить обязательно!)



Часть 1 (тесты)

№	Ответ (А – Г)	
1.	Б	-
2.	Б	-
3.	А	+
4.	Г	-
5.	Г	+
6.	А	+
7.	А	+
8.	Г	-
9.	В	-
10.	Б	-

№	Ответ (А – Г)	
11.	А	+
12.	В	+
13.	А	-
14.	Г	+
15.	А	+
16.	Б	+
17.	Г	+
18.	В	-
19.	А	+
20.	Б	+

№	Ответ (А – Г)	
21.	Г	+
22.	Г	+
23.	А	+
24.	Б	-
25.	Б	+
26.	А	+
27.	Б	-
28.	Б	+
29.	А	+
30.	В	-



код участника  
(не заполнять!)

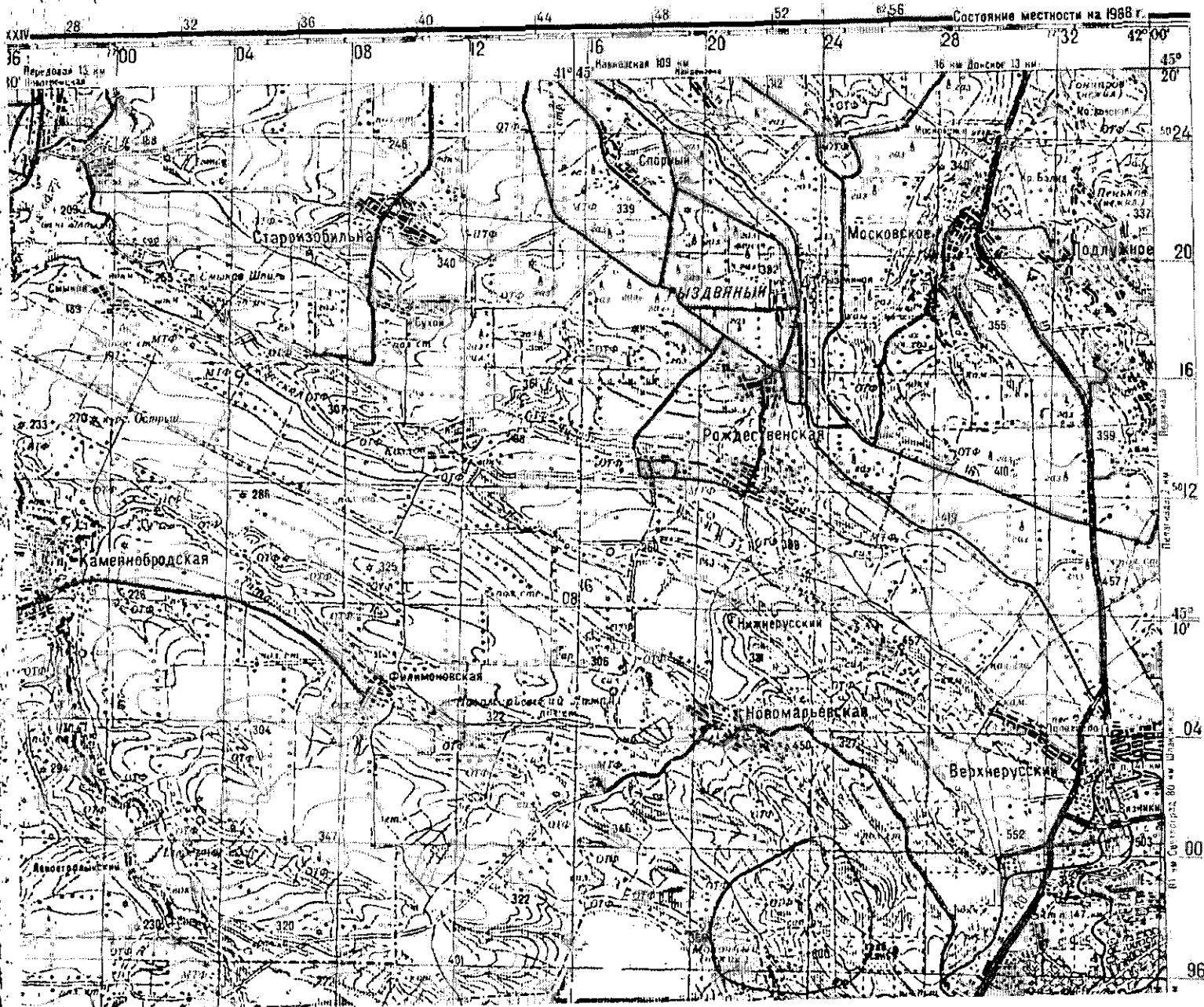
Часть 2 (ответы на вопросы по карте)

№	Ответ
<b>Блок 1</b>	
A 1	Субъект РФ: <i>Ставропольский край</i>
0	Часть субъекта РФ: <i>СКФД</i>
1	Административные районы: <i>Ипатовский район, Изобильненский район</i>
1	Элементы содержания карты: <i>Верхнерусский - Ипатовский районы Возвышен - Изобильненский, река Егорлык</i>
B	Населенный пункт 1:
	Населенный пункт 2:
B 1	Водохранилище 1: <i>Семилевское</i>
0	Водохранилище 2: <i>Невалячье</i>
0	Водохранилище 3: <i>Верхнерусское</i>
1	Река: <i>Егорлык</i>
<b>Блок 2</b>	
A 0	Масштаб карты: <i>1:100000</i> Способы расчета: <i>по ориентирам</i>
B 1	Высота самой высокой точки: <i>622 м</i> Географические координаты: <i>43° 30' 25" сш 53° 20' 30" вд</i>
<b>Блок 3</b>	
A 2	Промышленность: <i>добыча газа</i> Сельское хозяйство: <i>выращивание овощей, мукуры, пшеницы</i>
B 2	Названия географических объектов и их происхождение: <i>Матариса - противание (тепло) Костар, Верхнерусское - название на высоте, Кавказобудское - маленький Брод.</i>



код участника  
(не заполнять!)

Карта к части 2



Тараканов м.о. Т  
Самсонов В  
Афанасов О.В. Т

ГЧ1051

код участника  
(не заполнять!)

ВСЕРОССИЙСКАЯ ОЛИМПИАДА ШКОЛЬНИКОВ  
МУНИЦИПАЛЬНЫЙ ЭТАП  
ГЕОГРАФИЯ

ЛИСТЫ ДЛЯ ОТВЕТА НА ЗАДАНИЯ 1 РАУНДА

11 КЛАСС

ФАМИЛИЯ, ИМЯ, ОТЧЕСТВО:

СТРЮКОВСКИЙ ДМИТРИЙ СТАНИСЛАВОВИЧ

ОБЩЕОБРАЗОВАТЕЛЬНАЯ ОРГАНИЗАЦИЯ:

КЛАСС:

МБОУ СОШ №29

11А

МУНИЦИПАЛЬНЫЙ РАЙОН/ГОРОДСКОЙ ОКРУГ (НАСЕЛЕННЫЙ ПУНКТ):

ГЕОРГИЕВСК

ФАМИЛИЯ, ИМЯ, ОТЧЕСТВО УЧИТЕЛЯ ГЕОГРАФИИ:

БРЕЧКО ЕЛЕНА ИВАНОВНА

## ЛИСТ ОТВЕТОВ НА ЗАДАЧУ 1

1. Что это за показатель? Энергия падающего на поверхность Земли солнечного света (Фотобальтимическая характеристика поверхности Земли)
2. Как и почему его распределение изменяется от тропических широт к экватору и к полюсам? От тропич. широт к экватору увеличивается, т.к. к экватору угол падения солнечных лучей уменьшается а значит, меньше число лучей будет отражаться или <sup>об</sup> рассеиваться, большее число лучей солнечного света будет достигать поверхности Земли. От побережья к центру материков? <sup>К полюсам угол увеличивается, а значит меньше лучей попадет на поверхность Земли</sup> На побережье будет больше солнечных лучей, т.к. вода поверхность воды так же будет отражать солнечные лучи, которые будут попадать на поверхность Земли и тогда показатель будет больше умеренности возле побережья, чем у центральных районов материка
3. Какова причина уменьшения солнечного излучения, достигающего земной поверхности в этой стране в период с 2003 по 2014 гг.? В период с 2003 по 2014 гг. в Китае происходил массовый снос заводов, открылось огромное число заводов, в том числе (в том числе  $CO_2$ , различные смеси газов атмосфере, а также вредных металлов  $As, V, Co, Ba, Ag$  и так далее) загрязнили атмосферу, создавали смог и тем самым ~~после~~ мешали лучам солнца достигать поверхности
4. О какой стране идет речь? Китай
5. Почему наиболее значительное уменьшение этого показателя характерно для восточных и западных районов этой страны? Во-первых, это центральная часть материка. Во-вторых, в этих районах расположены горы, где горная поверхность отражает падающий свет, в третьих, именно там расположены основные заводы Китая
6. Какая природная причина способствует уменьшению этого показателя в восточных районах страны? Наличие горных хребтов, в том числе Гималаи, являющаяся крупной горной системой, содержащая огромное число высоких гор (в том числе а Эльбурс). Горные хребты отражают большее или-во солнечных лучей.

## ЛИСТ ОТВЕТОВ НА ЗАДАЧУ 2

1. Название объекта: Транссибирская ~~железная~~ <sup>15</sup> тележелезнодорожная магистраль
2. Уникальность: Минимальная длина от прямой линии, для <sup>16</sup> объединения
3. Субъекты РФ, на территории которых находится объект: Западную Россию

1) <del>г. Москва</del> Москва	11) Хабаровский край	0,4	Восст ной.
2) Московская область	12) Новосибирская обл.	0,4	
3) Ивановская область	13) Алтай		
4) Саратовская область	14) Амурская обл.	0,4	
5) респ. Башкортостан	15) респ. Татарстан		
6) Свердловская обл.	16) респ. Мордовия		
7) Челябинская обл.	17) Самарская обл.		
8) Пермский край	18) Владимирская обл.	0,4	
9) респ. Саха (Якутия)	19) Иркутская обл.		
10) Красноярский край	20) Магаданская обл.		

= 5,2

### ЛИСТ ОТВЕТОВ НА ЗАДАЧУ 3

Термин: апрель 18

№ описания	Страна	Окружающая страна
1	Конго 0	ДР Демократич. республике Конго
2	ОАЭ	Саудовская Аравия
3	Сан-Марино 0,85	Италия 0,85
4	Зимбабве	Замбия
5	Венесуэла	Италия

2,65

## ЛИСТ ОТВЕТОВ НА ЗАДАЧУ 4

Сельскохозяйственная культура: Бананы 2,5

Страны-экспортеры: 1) Гватемала 1,5

2) Колумбия 1,5

3) Бразилия

4) Коста-Рика 1,5

Как О. Генри называл такие

государства: Банановая республика 2

8,58 .



### ЛИСТ ОТВЕТОВ НА ЗАДАЧУ 5

№ описания	Этнос	Муниципальный район/Город
1.	Армяне	1) Георгиевск 2) Ставрополь 3) Буденновск
2.	Узбеки 18	1) Георгиевск 0,5 2) Кисловодск 3) Петрозаводск
3.	Дарестанцы	1) Кисловодск 2) Буденновск 3) Ессентуки
4.	Азербайджанцы	1) Георгиевск 2) Ставрополь 3) Петрозаводск.

31 - 55  
 32 - 5205  
 33 - 265  
 34 - 255  
 35 - 155  
 36 - 05  


---

 Итого: 2055

1,55

З.И. Заренская О.С.  
 В.А. Сорова Т.В.  
 В.И. Рахмиева О.В.  
 Е.И. Дроздова

Г 11052

код участника  
(не заполнять!)

Ставропольский край  
Муниципальный этап всероссийской олимпиады школьников  
2018/19 учебный год

ГЕОГРАФИЯ

Листы для ответа на задания 2 раунда  
10-11 класс

СТРЮКОВСКИЙ ДМИТРИЙ СТАНИСЛАВОВИЧ

ФИО участника (заполнить обязательно!)

## Часть 1 (тесты)

№	Ответ (А - Г)	
1.	B	-
2.	A	+
3.	A	+
4.	b̄	-
5.	Г	+
6.	Г	-
7.	A	+
8.	A	-
9.	B	+
10.	Г	+


№	Ответ (А - Г)	
11.	b̄	-
12.	Г	-
13.	A	-
14.	A	-
15.	A	+
16.	A	-
17.	Г	+
18.	B	+
19.	A	+
20.	B	+

№	Ответ (А - Г)	
21.	Г	+
22.	Г	+
23.	Г	-
24.	Г	+
25.	b̄	+
26.	A	+
27.	B	-
28.	B	+
29.	B	-
30.	b̄	+

12 - 185  
22 - 45

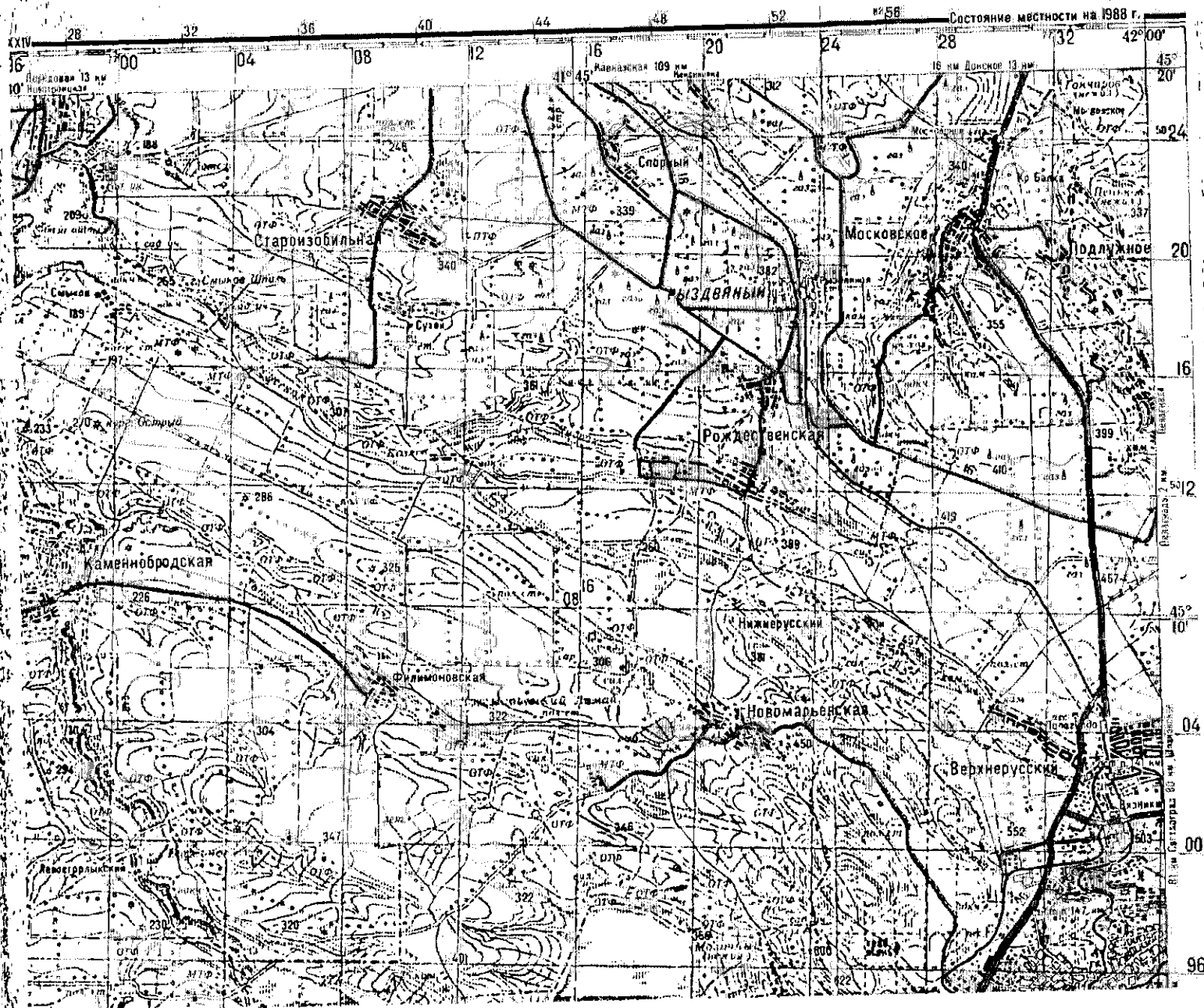
И  
О  
С

Власова Л.В.  
Заринич О.В.  
Торцова Е.И.



код участника  
(не заполнять!)

## Карта к части 2





код участника  
(не заполнять!)

Часть 2 (ответы на вопросы по карте)

№	Ответ
<b>Блок 1</b>	
<b>A</b>	Субъект РФ: <i>Ставропольский край</i> <span style="float: right;">10</span>
	Часть субъекта РФ: <i>Издобильский район Издобилье.</i>
	Административные районы: <i>Рызвенский, Староиздобильский, Верхнерусский</i>
	Элементы содержания карты: <i>Староиздобильская, Верхнерусский</i> <i>Камешко-Бродская</i> <span style="float: right;">-</span>
<b>Б</b>	Населенный пункт 1: <i>Невешинск</i> <span style="float: right;">-</span>
	Населенный пункт 2: <i>Издобилье</i> <span style="float: right;">10</span>
<b>В</b>	Водохранилище 1: <i>Егорское</i> <span style="float: right;">10</span>
	Водохранилище 2: <i>Буденновское</i>
	Водохранилище 3: <i>Ставропольское</i>
	Река: <i>Куца</i> <span style="float: right;">-</span>
<b>Блок 2</b>	
<b>A</b>	Масштаб карты: <i>1:10000</i> Способы расчета: <i>расстояние между Новомарьевской и Верхнерусскими примерно 6600 м. На карте это расстояние — 6,6 см.</i> $6,6 : 66000 = 1 : 10000$
<b>B</b>	Высота самой высокой точки: <i>157</i> Географические координаты: <del><i>50</i></del> $X = 36$ $41^{\circ} 45' 36''$ с.ш. <del><i>10,5</i></del> $Y = 10,5$ $45^{\circ} 10,5'$ в.д.
<b>Блок 3</b>	
<b>A</b>	Промышленность: <i>машиностроение</i>
	Сельское хозяйство: <i>животноводство, мясное животноводство, птицеводство, кукуруза, овощи</i> <span style="float: right;">1</span>
<b>B</b>	Названия географических объектов и их происхождение: <i>Названия имеют русские корни и происходят от русских слов: Староиздобильское, Новомарьевская, Верхнерусский</i>

*Этнический состав: Русские.* *Издобилье* *Марья* *Верхний поселок, где живут русские*

*10*

Г 11.041

код участника  
(не заполнять!)

ВСЕРОССИЙСКАЯ ОЛИМПИАДА ШКОЛЬНИКОВ  
МУНИЦИПАЛЬНЫЙ ЭТАП  
ГЕОГРАФИЯ

ЛИСТЫ ДЛЯ ОТВЕТА НА ЗАДАНИЯ 1 РАУНДА

11 КЛАСС

ФАМИЛИЯ, ИМЯ, ОТЧЕСТВО:

Рылатовой Кристины Константиновны

ОБЩЕОБРАЗОВАТЕЛЬНАЯ ОРГАНИЗАЦИЯ:

КЛАСС:

МБОУ СОШ № 29

11 Б

МУНИЦИПАЛЬНЫЙ РАЙОН/ГОРОДСКОЙ ОКРУГ (НАСЕЛЕННЫЙ ПУНКТ):

г. Георгиевск

ФАМИЛИЯ, ИМЯ, ОТЧЕСТВО УЧИТЕЛЯ ГЕОГРАФИИ:

Бречко Елена Ивановна

## ЛИСТ ОТВЕТОВ НА ЗАДАЧУ 1

1. Что это за показатель? \_\_\_\_\_

2. Как и почему его распределение изменяется от тропических широт к экватору и к полюсам? \_\_\_\_\_

От побережья к центру материков? \_\_\_\_\_

3. Какова причина уменьшения солнечного излучения, достигающего земной поверхности в этой стране в период с 2003 по 2014

гг.? Повышение плотности загрязненной воздушной массы. 15

4. О какой стране идет речь? Китай 15

5. Почему наиболее значительное уменьшение этого показателя характерно для восточных и западных районов этой страны? Отсутствие

концентрации в этих районах предприятий жилищной промышленности; горной руды. 0

6. Какая природная причина способствует уменьшению этого показателя в восточных районах страны? Ветры. 0,58

## ЛИСТ ОТВЕТОВ НА ЗАДАЧУ 2

1. Название объекта: Транссибирская магистраль 15

2. Уникальность: Наибольшая протяженность 16

3. Субъекты РФ, на территории которых находится объект:

1) Чувшская область 0,4	11) Хапты-Машкитский айыл округ -
2) Краснодарский край 0,4	12) Ярославская область 0,4
3) Пермский край 0,4	13) Пермская область 0,4
4) Челябинская область -	14) Республика Тыва -
5) Нижегородская область -	15) Новосибирский край 0,4
6) Свердловская область 0,4	16) Республика Коми -
7) Республика Хакасия -	17) Республика Башкортостан -
8) Алтайский край -	18) )
9) Тюменская область 0,4	19)
10) Республика Алтай -	20)

~~2,8~~  
3,2



### ЛИСТ ОТВЕТОВ НА ЗАДАЧУ 3

Термин: Номуртжылаш / ашжылаш 1

№ описания	Страна	Окружающая страна
1	Децокр. респ. Кото.	
2	ОАЭ	Катар
3	Мажтеништейн	Швейцария
4		
5		

0

ЛИСТ ОТВЕТОВ НА ЗАДАЧУ 4

5,5

Сельскохозяйственная культура: Бананы 2,5

Страны-экспортеры: 1) Египет

2) Тайланд

3) Коста-Рика 1,5

4) Индия

Как О. Генри называл такие государства: Банановые республики 2,5

### ЛИСТ ОТВЕТОВ НА ЗАДАЧУ 5

№ описания	Этнос	Муниципальный район/Город
1.		1) _____ 2) _____ 3) _____
2.	Арцыони	1) _____ 2) _____ 3) _____
3.	Кашчыки	1) _____ 2) _____ 3) _____
4.	Тадгитики	1) _____ 2) _____ 3) _____

~ 1 - 2,55

~ 2 - 5,25

~ 3 - 15

~ 4 - 5,55

~ 5 - 05

---

14,95

Заремка О.С.

Висова А.В.

Рагмиева О.В.

Э.М. Тодина

Г11042

код участника  
(не заполнять!)

Ставропольский край  
Муниципальный этап всероссийской олимпиады школьников  
2018/19 учебный год

ГЕОГРАФИЯ

Листы для ответа на задания 2 раунда  
10-11 класс

*Риманова Кристина Константиновна*

ФИО участника (заполнить обязательно!)


## Часть 1 (тесты)

№	Ответ (А - Г)	
1.	В	-
2.	Б	-
3.	А	+
4.	Г	-
5.	Г	+
6.	Д	+
7.	Б	-
8.	А	-
9.	В	+
10.	Б	-

№	Ответ (А - Г)	
11.	В	-
12.	А	-
13.	А	-
14.	А	-
15.	А	+
16.	А	-
17.	Г	+
18.	Б	+
19.	А	+
20.	Б	+

№	Ответ (А - Г)	
21.	Г	+
22.	В	-
23.	А	+
24.	Г	+
25.	Б	+
26.	А	+
27.	А	-
28.	Б	+
29.	А	+
30.	Б	+

12. - 175  
22. - 98


 Виасова Л.В.  
 Рагмиев О.В.  
 Дречко Е.М.  
 О.С. Варахонина



код участника  
(не заполнять!)

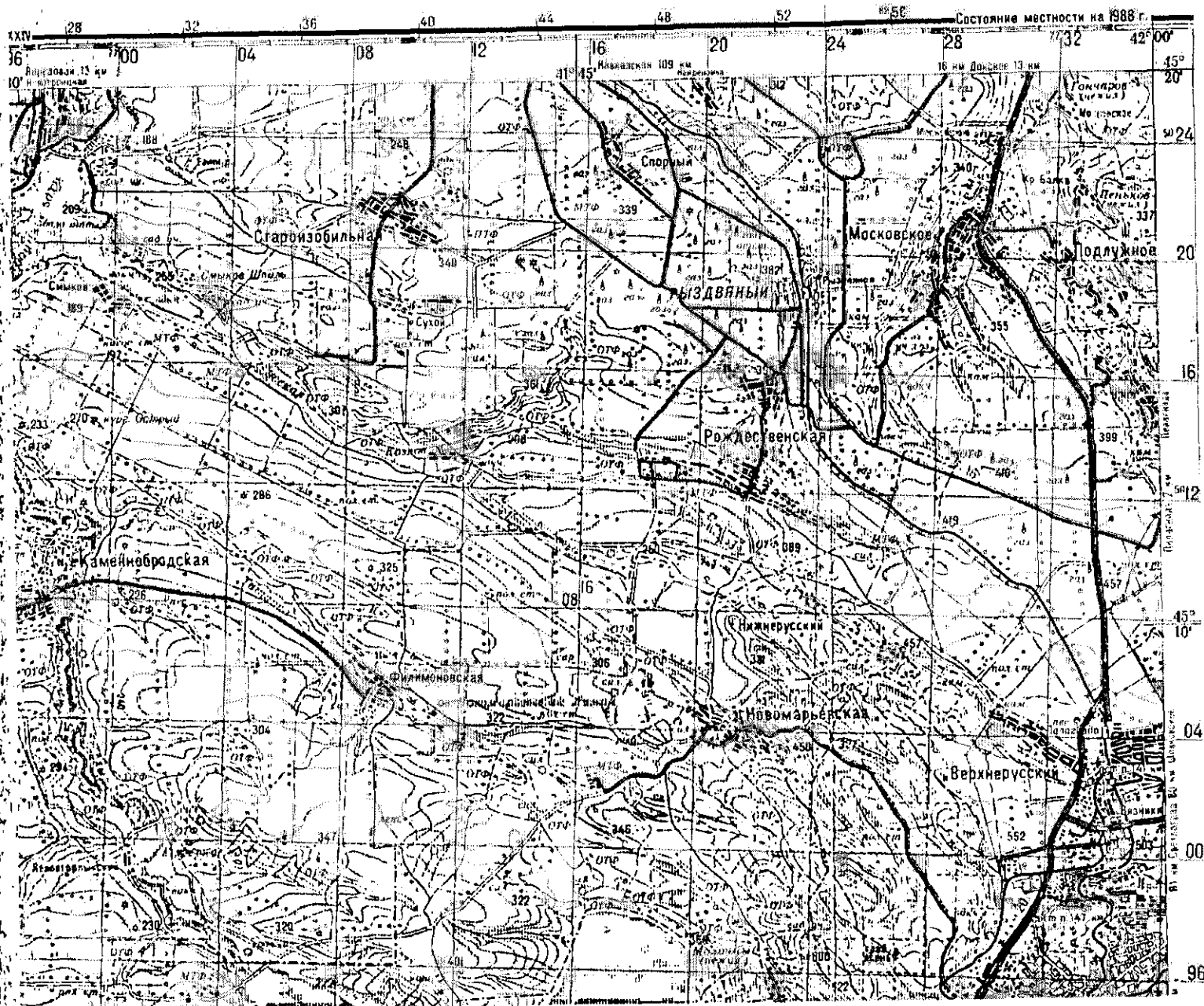
Часть 2 (ответы на вопросы по карте)

№	Ответ
<b>Блок 1</b>	
<b>A</b>	Субъект РФ: <i>Ставропольский край</i> <i>10</i>
	Часть субъекта РФ: <i>Ю-З</i> <i>10</i>
	Административные районы:
	Элементы содержания карты:
<b>B</b>	Населенный пункт 1: <i>Ставрополь</i> <i>10</i>
	Населенный пункт 2:
<b>B</b>	Водохранилище 1: <i>Ситилевское</i> <i>10</i>
	Водохранилище 2:
	Водохранилище 3:
	Река: <i>Юрлов</i> <i>10</i>
<b>Блок 2</b>	
<b>A</b>	Масштаб карты:
	Способы расчета:
<b>B</b>	Высота самой высокой точки: <i>622м</i> <i>10</i>
	Географические координаты:
<b>Блок 3</b>	
<b>A</b>	Промышленность: <i>Длиновская, Газовая</i>
	Сельское хозяйство: <i>Дев-во, растениеводство</i> <i>50</i>
<b>B</b>	Названия географических объектов и их происхождение:



код участника  
(не заполнять!)

## Карта к части 2



Г 11 101

код участника  
(не заполнять!)

ВСЕРОССИЙСКАЯ ОЛИМПИАДА ШКОЛЬНИКОВ  
МУНИЦИПАЛЬНЫЙ ЭТАП  
ГЕОГРАФИЯ

ЛИСТЫ ДЛЯ ОТВЕТА НА ЗАДАНИЯ 1 РАУНДА

11 КЛАСС

ФАМИЛИЯ, ИМЯ, ОТЧЕСТВО:

Тиндигин Семёнович Евгеньевич

ОБЩЕОБРАЗОВАТЕЛЬНАЯ ОРГАНИЗАЦИЯ:

КЛАСС:

МБОУ СОШ №21 им. И.С. Давыдова  
с. Обильное

11

МУНИЦИПАЛЬНЫЙ РАЙОН/ГОРОДСКОЙ ОКРУГ (НАСЕЛЕННЫЙ ПУНКТ):

с. Обильное

ФАМИЛИЯ, ИМЯ, ОТЧЕСТВО УЧИТЕЛЯ ГЕОГРАФИИ:

Шурешко Ольга Ивановна



## ЛИСТ ОТВЕТОВ НА ЗАДАЧУ 1

1. Что это за показатель? Количество осадков в год

2. Как и почему его распределение изменяется от тропических широт к экватору и к полюсам?

От тропических широт к экватору увеличивается, от тропических широт к полюсам уменьшается, т.к. уменьшается количество осадков, температура и влажность.

От побережья к центру материков? От побережья к центру материков уменьшается, т.к. уменьшается количество осадков.

3. Какова причина уменьшения солнечного излучения, достигающего земной поверхности в этой стране в период с 2003 по 2014 гг.?

Загрязнение атмосферы различными сферами промышленности и транспорта

4. О какой стране идет речь? Китай

5. Почему наиболее значительное уменьшение этого показателя характерно для восточных и западных районов этой страны?

Именно в этих районах сконцентрировано основное число промышленных предприятий, выбрасывающих в атмосферу загрязняющие вещества.

6. Какая природная причина способствует уменьшению этого показателя в восточных районах страны?

Рельеф, чем выше расположен участок, тем менее осадков на него выпадает.

## ЛИСТ ОТВЕТОВ НА ЗАДАЧУ 2

1. Название объекта: Камчатка дорра 15
2. Уникальность: Самая прожектная ж в мире 15
3. Субъекты РФ, на территории которых находится объект:

1) Московская область 0,4	11)
2) Красноярский край 0,4	12)
3) Забайкальский край 0,4	13)
4) Ленинградская область	14)
5) Пермский край 0,4	15)
6)	16)
7)	17)
8)	18)
9)	19)
10)	20)

### ЛИСТ ОТВЕТОВ НА ЗАДАЧУ 3

Термин: \_\_\_\_\_

№ описания	Страна	Окружающая страна
1	Швейцария	об
2	Ватикан	
3		
4		
5	Венгрия	

## ЛИСТ ОТВЕТОВ НА ЗАДАЧУ 4

Сельскохозяйственная культура: Чай 05

Страны-экспортеры: 1) Индия 05

2) Китай 05

3) Таиланд 05

4) Индонезия 05

Как О. Генри называл такие государства: \_\_\_\_\_

### ЛИСТ ОТВЕТОВ НА ЗАДАЧУ 5

№ описания	Этнос	Муниципальный район/Город
1.		1) _____ 2) _____ 3) _____
2.	цыгане 15	1) _____ 2) _____ 3) _____
3.	Фроле Станчи	1) <del>распространены</del> _____ 2) _____ 3) _____
4.	Корески	1) _____ 2) _____ 3) _____

3<sub>1</sub> - 35  
 3<sub>2</sub> - 3,65  
 3<sub>3</sub> - 0  
 3<sub>4</sub> - 0  
 3<sub>5</sub> - 15  


---

 4,6

З.И. О.С. Заренская  
 А.В. Власова  
 В.В. Фаршидзе  
 Э.И. Орлова

Г 11 102

код участника  
(не заполнять!)

**Ставропольский край  
Муниципальный этап всероссийской олимпиады школьников  
2018/19 учебный год**

**ГЕОГРАФИЯ**

**Листы для ответа на задания 2 раунда  
10-11 класс**

*Тимур Вагжанов Евгеньевич*

ФИО участника (заполнить обязательно!)

## Часть 1 (тесты)


№	Ответ (А - Г)	
1.	В	-
2.	А	+
3.	А	+
4.	Г	-
5.	Г	+
6.	А	+
7.	А	+
8.	Б	-
9.	АВ	+
10.	Г	+

№	Ответ (А - Г)	
11.	Б	-
12.	Г	-
13.	А	-
14.	В	-
15.	А	+
16.	Г	-
17.	Б	-
18.	Г	-
19.	А	+
20.	Б	+

№	Ответ (А - Г)	
21.	Г	+
22.	Г	+
23.	А	+
24.	Г	+
25.	Б	+
26.	А	+
27.	В	+
28.	А	+
29.	А	+
30.	Б	+

12 - 205  
22 - 116

Власова А.В.  
Защитова О.В.  
Заренская О.С.  
Дрозко Е.И.



код участника  
(не заполнять!)

Часть 2 (ответы на вопросы по карте)

№	Ответ
<b>Блок 1</b>	
<b>A</b>	Субъект РФ: <i>Ставропольский край</i> <span style="float: right;">16</span>
	Часть субъекта РФ: <i>северо-западная</i>
	Административные районы:
	Элементы содержания карты: <i>Ишаковский (ныне Михайловский)</i> <span style="float: right;">16</span>
<b>B</b>	Населенный пункт 1: <i>Тарнополь</i> <span style="float: right;">16</span>
	Населенный пункт 2:
<b>B</b>	Водохранилище 1:
	Водохранилище 2:
	Водохранилище 3:
	Река: <i>Ирбис</i> <i>Сидык</i> <span style="float: right;">10</span>
<b>Блок 2</b>	
<b>A</b>	Масштаб карты: Способы расчета:
<b>B</b>	Высота самой высокой точки: <i>692</i> <span style="float: right;">16</span> Географические координаты:
<b>Блок 3</b>	
<b>A</b>	Промышленность: <i>чай, минерал.</i> <span style="float: right;">35</span>
	Сельское хозяйство: <i>пастбищ-то, живот-то</i>
<b>B</b>	Названия географических объектов и их происхождение: <i>Ставропольский край</i>

35





код участника  
(не заполнять!)

# Карта к части 2

